

1972
I^o ciclo


SECRETARIA DA EDUCAÇÃO E CULTURA

COLÉGIO ESTADUAL DE GOIÂNIA

EXAMES DE MADUREZA

1º e 2º CICLOS

RELATÓRIO DOS TRABALHOS DOS EXAMES
DE MADUREZA, REALIZADOS NO PERÍODO
DE 17 a 21 DE NOVEMBRO DE 1972.



TEREZINHA VIEIRA DA SILVEIRA
COORDENADORA

RELATÓRIO DOS
EXAMES DE MADUREZA

NOVEMBRO DE 1972

PUBLICAÇÃO DE EDITAIS

ESTADO DE GOIÁS
SECRETARIA DA EDUCAÇÃO E CULTURA

E D I T A L

De ordem do Sr. Secretário da Educação e Cultura do Estado de Goiás, este Departamento do Ensino Médio faz saber aos interessados que:

I- De acordo com a Resolução nº 726, de 18 de janeiro de 1972 do Egregio Conselho Estadual de Educação serão realizadas as provas dos exames de Madureza- complementares do 1º e 2º ciclos, Artigo 99, da Lei 4.024, no período de 17 a 21 de novembro;

II-As inscrições para os referidos Exames estarão abertas... no período de 25 do corrente mes: a 10 de novembro, no Colégio Estadual de Goiânia(Liceu) das 13 às 17 hs;

III- Só poderá se inscrever o candidato que apresentar o certificado de aprovação em pelo menos uma disciplina do ciclo pretendido, em Estabelecimento de Ensino sediado no Estado de Goiás, antes dos Exames realizados nesta Capital, em fevereiro de 1972.

a) Só poderá se inscrever para o 1º ciclo o candidato que tenha eliminado pelo menos uma disciplina com 16 anos completos, antes dos exames realizados nesta Capital, em fevereiro do corrente ano;

b) Só poderá se inscrever para o 2º ciclo o candidato que tenha eliminado pelo menos uma disciplina, antes dos exames realizados nesta Capital em fevereiro do corrente ano, com 19 anos completos ou 18 anos desde que prove ter sido emancipado em data não posterior à realização das primeiras provas.

IV- DOCUMENTOS COMPLEMENTARES

- a) Comprovante de quitação com o serviço eleitoral
- b) Comprovante de quitação com o serviço militar
- c) 2 fotos 3/4
- d) Certidão de nascimento e uma identidade (menor)
- e) Comprovante do curso ginasial para o 2º ciclo.

V- No ato da inscrição será cobrada a taxa de Cr\$ 10,00(dez cruzeiros) por disciplina requerida.

OBS: Haverá um desconto de 50% para os funcionários públicos federais, estaduais e municipais mediante a apresentação de carteira profissional.

Mozart Barbosa Filho
Diretor do Depto. do Ensino Médio (12898/1)

SECRETARIA DA EDUCAÇÃO E CULTURA
CONSELHO DE EDUCAÇÃO DE GOIÁS

RESOLUÇÃO Nº 886, de 07 de Novembro de 1 972

Dispõe sobre a realização de Exames de Madureza, no regime do Art. 99, da Lei nº 4 024, de 20/12/61 e dá outras providências.

O CONSELHO ESTADUAL DE EDUCAÇÃO DE GOIÁS, no uso das suas atribuições legais, tendo em vista o que consta do Proc. nº 401/72 e nos termos do Parágrafo Único do Art. 24, da Lei Federal nº 5 692, de 11 de agosto de 1 971, R E S O L V E :

Art. 1º- Os candidatos que iniciaram o antigo "madureza" no regime da Lei nº 4 024, de 20 de dezembro de 1 961, e que tenham sido aprovados até 31 de dezembro de 1 971, em uma ou mais disciplinas então exigidas, poderão submeter-se a exames das restantes do sistema, dentro dos limites de idade fixados pelo referido diploma legal.

Art. 2º- A Secretaria da Educação e Cultura do Estado de Goiás criará ou designará um órgão para elaborar e aplicar provas complementares aos que se enquadrarem nas disposições do artigo anterior, bem como expedir os certificados de exame.

Art. 3º- Esta Resolução, homologada pelo Senhor Secretário da Educação e Cultura, entrará em vigor na data de sua publicação, revogada a Resolução nº 726, de 18 de janeiro de 1 972 e as demais disposições em contrário.

SALA DAS SESSÕES DO CONSELHO ESTADUAL DE EDUCAÇÃO DE GOIÁS, em Goiânia, aos 7 dias do mês de novembro de 1 972.

+Dom Antônio Ribeiro de Oliveira-Presidente
Djalma Silva- Relator
Antônio José de Oliveira- Membro
Delson Leone- Membro
Pe. Otto da Fonseca-Membro
Maria Lucy Ferreira- Membro
José Luis Bittencourt- Membro
Sebastião Ribeiro- Membro
Alfredo Antônio Saad-Membro.

RELATÓRIO DOS
EXAMES DE MADUREZA

NOVEMBRO DE 1972

HORÁRIO DE PROVAS

COORDENAÇÃO DOS EXAMES DE MADUREZA- COMPLEMENTARES

NOVEMBRO DE 1972.

HORÁRIO DAS PROVAS

DATA	1º CICLO	DATA	2º CICLO
17	8 hs - Português 10 hs - Ciências 15 hs - História 18 hs - E.M.C.	19	8 hs - Português 10 hs - História 14 hs - Biologia 16 hs - Francês 19 hs - Espanhol
18	8 hs - Matemática 10 hs - O.S.P.B. 15 hs - Geografia	20	8 hs - Matemática 10 hs - Geografia 14 hs - Inglês 16 hs - Química 19 hs - E.M.C.
		21	8 hs - Física 10 hs - O.S.P.B. 14 hs - Latim 16 hs - Ciênc.Fís.e Bioló- gicas 19 hs - Filosofia

- OBSERVAÇÕES: 1) Os candidatos (maiores) deverão apresentar no início de cada prova, carteira de identidade e título de eleitor, juntamente com o cartão de inscrição;
- 2) Os candidatos (menores) deverão apresentar no início de cada prova um documento de identificação (carteira de estudante ou título eleitoral estudantil ou carteira de identidade ou de trabalho, juntamente com o cartão de inscrição.

Atribuições da Banca Examinadora

- I) Elaborar, datilografar, miniografar, encadernar, lacrar as provas.
- II) Fornecer relatório geral das ocorrências durante a realização das mesmas.
- III) Dentro da sala de aula:
- a) fazer a chamada antes do início das provas;
 - b) identificar o candidato;
 - c) colher as assinaturas;
 - d) assinar o cartão de inscrição;
 - e) recolher as provas e verificar se contém assinatura;
 - f) fazer o relatório de toda e qualquer ocorrência.
- IV) Será obrigatória a presença de todos os examinadores durante a realização das provas, onde os mesmos atuarão como fiscais.
- V) A cada Banca, e somente a ela, caberá a correção das provas concernentes à sua matéria.

Obs: O critério de aprovação, será único na correção das provas.

Terezinha Vieira da Silveira



ESTADO DE GOIÁS
SECRETARIA DA EDUCAÇÃO E CULTURA
COLÉGIO ESTADUAL DE GOIÂNIA

COORDENAÇÃO DOS EXAMES DE MADUREZA

Of. Circular nº 01/72

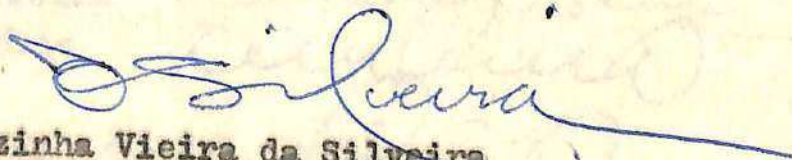
Goiânia, 11 de novembro de 1972

Senhor Professor,

A Secretaria da Educação e Cultura fará realizar de 17 a 21 de novembro, os Exames de Madureza Complementares, segundo as Resoluções nº 726, de 18 de janeiro e nº 886 de 7 de novembro do corrente ano do Egrégio Conselho Estadual de Educação. Para êxito de tal empreendimento, sua colaboração como participante da banca examinadora é valiosa e indispensável.

Caso V.Sa. aceite figurar entre os examinadores pedimos-lhe a fineza de comparecer à reunião que faremos realizar dia 13 próximo, às 20 horas, no Colégio Estadual de Goiânia, onde serão tomadas as decisões relativas à realização das provas.

Certos de podermos contar com sua colaboração, apresentamos-lhe nossos protestos de respeito e consideração.


Terezinha Vieira da Silveira
Coordenadora.



COORDENAÇÃO DOS EXAMES DE MADUREZA

RELAÇÃO DAS BANCAS EXAMINADORAS

× PORTUGUÊS:

- a) Prof^ª. Darcy França Denófris *Darcy França Denófris*
b) Prof^ª. Nilza Soares de Castro Carneiro *Nilza Soares de Castro Carneiro*

× MATEMÁTICA:

- a) Ary Pereira da Silva *Ary Pereira*
b) Nilson Pereira de Brito *Nilson Pereira de Brito*

× CIÊNCIAS:

- a) Emilson Tavares de Brito *Emilson T. de Brito*
b) Corália de Paiva Rocha *Corália de Paiva Rocha*

× BIOLOGIA:

- a) Emilson Tavares de Brito *Emilson T. de Brito*
b) Corália de Paiva Rocha *Corália de Paiva Rocha*

× CIÊNC. FIS.

E BIOL.

- a) Emilson Tavares de Brito *Emilson T. de Brito*
b) David Roberto Barbosa

× INGLÊS:

- a) Maria Bernadete Gonçalves Fleury Curado *Bernadete G.F.C.*
b) Aúrea Fleury Curado Teixeira

× FRANCÊS:

- a) Ecléa Campos Ferreira *Ecléa Campos Ferreira*
b) Nilton Mário Fiorio *Nilton Mário Fiorio*

× ESPAANHOL:

- a) Nilton Fiorio *Nilton Mário Fiorio*
b) Ecléa Campos Ferreira *Ecléa Campos Ferreira*

× LATIM:

- a) Agener Pedrese *Agener Pedrese*
b) Celso Cavalcante Batista



GEOGRAFIA:

- a) Hercília de Sousa Lima Milazzo *Hercília S. L. Milazzo*
b) Lúcia Toledo de Ciqueira *Lúcia Toledo Ciqueira*

HISTÓRIA:

- a) José Dias de Moraes Cunha *José Dias de Moraes Cunha*
b) Maria Sônia França e Souza

FILOSOFIA:

- a) Isabel Dias Neves *Isabel Dias Neves*
b) Celso Cavalcante Batista *Celso Cavalcante Batista*

O.S.P.B.:

- a) Neide França Pereira *Neide França Pereira*
b) Maria Sônia França e Souza

E.M.C.:

- a) Neide França Pereira *Neide França Pereira*
b) Maria Sônia França e Souza

QUÍMICA:

- a) Estênio de Almeida Mascarenhas *Estênio de Almeida Mascarenhas*
b) David Roberto Barbosa

FÍSICA:

- a) David Roberto Barbosa *David Roberto Barbosa*
b) Estênio de Almeida Mascarenhas

Goiânia, 13 de novembro de 1972

Terezinha Vieira da Silveira
Coordenadora.

F O L H A D E P R E S E N C A

P R O F E S S O R E S

RELATÓRIO DOS
EXAMES DE MADUREZA

NOVEMBRO DE 1972

PORTUGUÊS - 1º CICLO

- a) PROVA DADA
- b) NOTAS FINAIS
- c) ATA

R E L A T Ó R I O G E R A L

EXAMES DE MADUREZA-COMPLEMENTARES.

DISCIPLINA: PORTUGUÊS

CICLO: PRIMEIRO

LOCAL: COLÉGIO ESTADUAL DE GOIÂNIA

HORÁRIO: 8 HORAS

GOIÂNIA, 17 DE NOVEMBRO DE 1972

1- Candidatos inscritos: 323
Candidatos presentes: 305
Candidatos ausentes: 18

2- Nomes dos alunos ausentes:

Sala 15 - Antônio Camilo Pereira
Adair Soares Castor.

Sala 16 - Antolina Baía Borges
Cláudio Roberto Ribeiro.

Sala 18 - Ezio Vaz.

Sala 19 - Gabriel da Silva
Gilberto Hamu
Galdencio Fernandes Filho
Gilcéllo Arantes Oliveira
Ildefonso Pio de Almeida
Ivone Maia do Carmo.

Sala 20 - José Luiz de Medeiros Chaves.

Sala 23 - Maria Mercedes Coelho.

Sala 24 - Oscar Urzêda Ferro
Paulo César Ribeiro
Raul Andrade de Faria.

Sala 25 - Wilmar Divino Carneiro
Walmir Sebastião de Almeida.

3- Salas: os alunos, divididos em onze turmas, ocuparam as salas números 15-16-17-18-19-20-21-22-23 - 24 e 25.

4- Fiscais:

- Sala 15: Corália de Paiva Rocha.
Sala 16: Lúcia Toledo Siqueira
 Maria Bernadete G. F. Curado.
Sala 17: Hercília S. L. Milazzo
 Maria Sônia França e Sousa.
Sala 18: Agenor Pedroso.
Sala 19: Nilson Pereira
Sala 20: Nilton Mário Fióri.
Sala 21: José Dias de Moraes Cunha.
Sala 22: Emilson Tavares de Brito.
Sala 23: David Roberto.
Sala 24: Aurea Curado Fleury Teixeira.
Sala 25: Isabel Dias Neves
 Celso Cavalcante Batista.

5- Banca Examinadora:

 Nilza Soares de Castro Carneiro
 Darcy França Denófrío.

6- Ocorrências extraordinárias:

As professoras Nilza Soares de Castro Carneiro e Darcy França Denófrío, integrantes da Banca, (que haviam previamente examinado a prova mimeografada e constatado algumas omissões e erros de numeração) / visitaram cada classe observando o seguinte: anulação da questão nº 17; correção da questão nº 40 - "Versos não rimados": a negação fora omitida.

Obs: A Banca, ao realizar a correção, observando / ainda engano na numeração das questões de 6 a 11, onde deveria constar de 6 a 15, resolveu a ceitar como válidas, porque ofereciam dupla interpretação, duas respostas na questão 14: C / ou D; duas respostas na 15: A ou B. Ainda du - pla resposta na questão 38: A ou C, porque alguns autores endossam as duas formas aí conti - das.

7- Encerramento da prova às 10 horas.

Alunos aprovados: 111

Alunos reprovados: 194

Elaboraram este relatório:

Nilza Soares de Castro Carneiro
Nilza Soares de Castro Carneiro

Darcy França Denófrío
Darcy França Denófrío

SECRETARIA DA EDUCAÇÃO E CULTURA

COORDENAÇÃO DOS EXAMES DE MADUREZA- COMPLEMENTARES

NOME DO CANDIDATO: _____

(Assinatura do candidato)

Nº DE INSCRIÇÃO : _____

PROVA DE PORTUGUÊS- 1º CICLO

I N S T R U Ç Õ E S

Nós lhe desejamos êxito na prova e, por isso, lhe recomendamos:

- a) Leia todo o texto, no mínimo duas vezes, antes de pas sar às questões a ele relacionadas. Volte ao texto, sem pre que se fizer necessário.
- b) Leia, com muita atenção, cada questão da prova, antes de respondê-la.
- c) Se encontrar dificuldade em alguma questão, passe à seguinte e retorne, depois, quando houver terminado a sua prova.
- d) Procure responder primeiro as questões que lhe parecerem mais fáceis.
- e) Terminada a prova, passe as respostas para a folha do gabarito. Marque apenas uma alternativa em cada questão: haverá 4 alternativas, mas uma só é correta.
- f) Não rasure o gabarito: resposta rasurada não será le vada em conta.

---000---

"A mais bela coragem é a confiança que devemos ter na ca pacidade do nosso esforço. O que sobe por favor, deixa sempre rastro de humilhação",

Houve um tempo em que a minha janela se abria sobre uma cidade que parecia feita de giz. Perto da janela havia um pequeno jardim quase seco.

Era numa época de estiagem, de terra esfarelada, e o jardim parecia morto. Mas todas as manhãs vinha um pobre homem com um balde, e, em silêncio, ia atirando com a mão umas gotas de água sobre as plantas. Não era uma rega; era uma espécie de aspersão ritual, para que o jardim não morresse. E eu olhava para as plantas, para o homem, para as gotas de água que caíam de seus dedos magros, e meu coração ficava completamente feliz.

Às vezes abro a janela e encontro o jasmineiro em flor. Outras vezes encontro nuvens espessas. Avisto crianças que vão para a escola. Pardais que pulam pelo muro. Gatos que abrem e fecham os olhos, sonhando com pardais. Borboletas brancas, duas a duas, como refletidas no espelho do ar. Marimbondos que sempre me parecem personagens de Lope de Vega. Às vezes, um galo canta. Às vezes, um avião passa. Tudo está certo, no seu lugar, cumprindo o seu destino. E eu me sinto completamente feliz.

Mas, quando falo dessas pequenas felicidades certas, que estão diante de cada janela, uns dizem que essas coisas não existem, outros que só existem diante das minhas janelas, e outros, finalmente, que é preciso aprender a olhar, para vê-las.

....

Interpretação

1- Segundo a autora, a arte de ser feliz consiste em:

- a) ver um jasmineiro florido;
- b) ver crianças;
- c) aprender a ver;
- d) ouvir um galo cantar.

2- Assinale a seqüência em que aparecem algumas das "pequenas felicidades certas" citadas pela autora:

- a) o jasmineiro em flor- borboletas brancas- pardais;
- b) riqueza e posição- pardais - conforto;
- c) estudo- o trabalho- a pesquisa - o dinheiro;
- d) o jasmineiro em flor- um terraço florido- uma fonte.

Segue...

3- Segundo o texto, o que quer dizer "aprender a olhar"?

- a) Olhar só para o lado certo.
- b) Saber descobrir o certo onde ele estiver.
- c) Saber descobrir o valor das coisas simples.
- d) Olhar só para as coisas corretas.

4- Quando a autora fala das pequenas felicidades certas, que estão diante de cada janela, a oração grifada significa que:

- a) diante de cada janela há visões certas;
- b) diante de cada janela há jasmineiro em flor;
- c) diante de cada pessoa há coisas simples, mas de valor;
- d) diante de cada janela há um semeador de felicidade.

5- Em sua opinião, quem tem razão, entre os que a autora cita no último parágrafo:

- a) os que dizem que essas coisas não existem;
- b) os que dizem que só existem diante das janelas da autora;
- c) os que dizem que é preciso aprender a olhar para poder ver assim as coisas;
- d) ou os que estão certos não foram citados ?

Nas questões de 6 a 15, você encontrará em cada oração, ou parte de oração, um termo sublinhado. Assinale a única alternativa, em cada caso, que corresponda à função sintática correta daquele termo.

6- Perto da janela havia um pequeno jardim...

- a) adjunto adverbial de lugar;
- b) sujeito direto;
- c) objeto indireto;
- d) adjunto adnominal.

7- "...o jardim parecia morto!"

- a) predicado verbal;
- b) predicado nominal;
- c) predicado verbo-nominal;
- d) predicado do sujeito.

8- "Mas todas as manhãs vinha um pobre homem..."

- a) objeto direto;
- b) objeto indireto;
- c) complemento nominal;
- d) sujeito.

9- "... e, em silêncio, ia atirando..."

- a) agente da passiva;
- b) complemento nominal;
- c) objeto indireto;
- d) adjunto adverbial.

- 10- "... era uma espécie de aspersão ritual..."
- a) complemento nominal;
 - b) objeto indireto;
 - c) objeto direto preposicionado;
 - d) adjunto adnominal.
- 11) "... para que o jardim não morresse."
- a) predicado nominal;
 - b) predicado verbal;
 - c) predicado verbo-nominal;
 - d) adjunto adverbial de negação.
- 12- "... e meu coração ficava completamente feliz."
- a) adjunto adverbial de modo;
 - b) predicativo do sujeito;
 - c) predicativo do objeto;
 - d) adjunto adnominal.
- 13- "... como refletidas no espelho do ar".
- a) complemento nominal;
 - b) adjunto adnominal;
 - c) adjunto adverbial;
 - d) predicativo.
- 14- "Marimbondos que sempre me parecem" ..
- a) objeto direto;
 - b) sujeito;
 - c) objeto indireto;
 - d) pronome oblíquo.
- 15- "Tudo está certo"...
- a) pronome indefinido;
 - b) sujeito indeterminado;
 - c) sujeito simples;
 - d) sujeito indefinido.

Nas questões de 16 a 26, você encontrará, após cada número, uma oração sublinhada. Marque a única alternativa que corresponda à correta classificação sintática desta oração. Para segurança sua, consulte sempre o texto antes da resposta. -

- 16- "Era uma época de estílagem, de terra esfarelada, e o jardim parecia morto".
- a) or. coordenada sindética adversativa;
 - b) or. coordenada sindética explicativa;
 - c) or. coordenada sindética aditiva;
 - d) or. coordenada sindética conclusiva.

17- "Não era uma rega; era uma espécie de aspersão ritual".

Denise
Muniz

- a) or, coordenada assindética aditiva;
- b) or, coordenada assindética conclusiva;
- c) or, coordenada sindética explicativa;
- d) or, coordenada assindética adversativa.

18- "... para que o jardim não morresse."

- a) Or, subordinada adv, consecutiva.
- b) Or, subordinada adv, final.
- c) Or, coordenada sind, explicativa.
- d) Or, subordinada adv, concessiva.

19- "... sonhando com pardais."

- a) Or, coord. sind. aditiva,
- b) Or, reduzida de gerúndio.
- c) Or, coord. sind. explicativa.
- d) Or, reduzida de particípio.

20- "Pardais que pulam pelo muro."

- a) Coordenada sindética explicativa.
- b) Subordinada substantiva objetiva direta.
- c) Subordinada adjetiva explicativa.
- d) Subordinada adjetiva restritiva.

21- "Mas, quando falo dessas pequenas felicidades certas".

- a) Or, subordinada adverbial temporal.
- b) Or, coordenada sindética adversativa.
- c) Or, subordinada adverbial concessiva.
- d) Or, subordinada adverbial proporcional.

22- "Uns dizem que essas coisas não existem..."

- a) Subordinada adjetiva restritiva.
- b) Subordinada adverbial causal.
- c) Subordinada substantiva predicativa.
- d) Subordinada substantiva objetiva direta.

23- "... para poder vê-las assim."

- a) Subordinada adverbial de modo.
- b) Subordinada adverbial final- reduzida de infinitivo.
- c) Subordinada substantiva objetiva direta- reduzida de infinitivo
- d) Coordenada sindética conclusiva.

Assinale a alternativa correta, levando em conta o termo sublinhado.

24- "Marimbondos que sempre me parecem personagens de Lopes de Vega"

- a) próclise- atração exercida pelo pronome relativo;
- b) ênclise- atração do advérbio;
- c) mesóclise- não há palavra atrativa;
- d) Nenhuma das alternativas .

25- "... que é preciso aprender a olhar para poder vê-las."

- a) mesóclise
- b) próclise
- c) ênclise
- d) Nenhuma das alternativas

26- "E eu me sinto completamente feliz".

No exemplo acima, deu-se próclise e a razão foi:

- a) Atração exercida pelo pronome do caso reto
- b) Não houve atração. Motivo da próclise: eufonia.
- c) Atração exercida pela conjunção aditiva
- d) Nenhuma das alternativas.

27- Assinale, nos exemplos abaixo, a única regência incorreta:

- a) Cecília aspira ao perfume do jardim.
- b) Há tempo não o vejo.
- c) Eu lhe quero bem.
- d) Obedeci-lhe sem relutância.

Linguagem figurada é um meio de que o autor se serve para enriquecer o seu estilo.

Identifique as figuras abaixo:

28- "Borboletas brancas, duas a duas, como refletidas no espelho do ar."

- a) hipérbole
- b) metonímia
- c) metáfora
- d) prosopopéia

29- "Fizemos a barca enveredar-se pelo braço do rio."

- a) metonímia
- b) metáfora
- c) catacrese
- d) prosopopéia

30- A cidade ficou alagada pelo dilúvio que ontem abateu sobre ela.

- a) catacrese
- b) ironia
- c) metáfora
- d) hipérbole

31- "As estrelas foram chamadas e disseram: aqui estamos."

- a) metáfora
- b) prosopopéia
- c) hipérbole
- d) paradoxo

32- "Ele é um excelente professor: reprova 90% de seus alunos".

- a) metáfora
- b) ironia
- c) eufemismo
- d) hipérbole.

33- "Ele é um funcionário da limpeza pública."

- a) eufemismo
- b) metáfora
- c) ironia
- d) catacrese

34- Assinale a única seqüência em que aparecem somente vocábulos cujos acentos desapareceram:

- a) silêncio- tôdas- Vêzes- espêssas- época
- b) sôbre- sêco- tôdas- gôtas-vêzes- espêssas
- c) época- água- silêncio- espécie- caíam
- d) está - só- é- vê-las - sêco- tôdas

Para cada oração abaixo, você encontrará uma série de alternativas. Assinale a única que preencha corretamente a lacuna .

35- Talvez ele..... mais do que eu.

- a) valha
- b) vale
- c) vala
- d) Nenhuma das respostas

36- Eu não neste lugar.

- a) cabo
- b) cabe
- c) caibo
- d) Nenhuma das respostas.

37- É necessário que nós..... os documentos.

- a) traguemos
- b) trouxemos
- c) tragamos
- d) trazemos

38- Um e outro ao cinema.

- a) foi
- b) foram
- c) fostes
- d) Nenhuma das respostas

Obs.: aqui foram consideradas duas respostas: vá- lidas a ou b.

Segue...

Darcy Franca Denóquio
Barreiro

39- Marque o ítem em que o SE é símbolo de indeterminação do sujeito:

- a) Todos se retiraram a tempo
- b) Vendem-se flores aqui.
- c) Precisa-se de pedreiros.
- d) Sabem se o resultado já foi dado ?

40- Versos ^{não}rimados chamam-se:

- a) consoantes;
- b) vocálicos;
- c) soltos ou brancos;
- d) assonantes.

---000---

FELICIDADES

SECRETARIA DA EDUCAÇÃO E CULTURA

COORDENAÇÃO DOS EXAMES DE MADUREZA- COMPLEMENTARES

NOME DO CANDIDATO: _____

(Assinatura do candidato)

Nº DE INSCRIÇÃO: _____

OBSERVAÇÕES:

- 1) Marque apenas uma letra correspondente à resposta certa, em cada teste.
- 2) Teste rasurado, ou com dupla resposta, será anulado.

Nº	A	B	C	D
1				
2				
3				
4				
5				
6				
7				
8				
9				
10				
11				
12				
13				
14				
15				
16				
17				
18				
19				
20				

Nº	A	B	C	D
21				
22				
23				
24				
25				
26				
27				
28				
29				
30				
31				
32				
33				
34				
35				
36				
37				
38				
39				
40				



SERVIÇO PÚBLICO FEDERAL
MINISTÉRIO DA EDUCAÇÃO
UNIVERSIDADE FEDERAL DE GOIÁS
FACULDADE DE EDUCAÇÃO

FICHA DE SUBSTITUIÇÃO DE IMAGEM

ESTA FICHA INDICA QUE A IMAGEM NESTA POSIÇÃO DA UNIDADE DE DESCRIÇÃO EM SUPORTE DE PAPEL NÃO FOI MANTIDA NESTE REPRESENTANTE DIGITAL PARA FINS DE PROTEÇÃO DO DIREITO DE PRIVACIDADE, POIS NA REFERIDA IMAGEM EXISTEM DADOS PESSOAIS RELATIVOS À PESSOAS NATURAIS IDENTIFICADAS OU IDENTIFICÁVEIS.

AÇÃO/PROJETO:	Projeto de Pesquisa: Educação de Jovens e Adultos Trabalhadores em Goiás - relações entre o local e o nacional. Cadastro SIGAA PI0581-2017. (Agência de Fomento: CNPq).
RESPONSÁVEL PELA AÇÃO/PROJETO:	Prof. Maria Margarida Machado
ENTIDADE CUSTODIADORA:	Centro Memória Viva - Goiás
TÍTULO DO FUNDO/COLEÇÃO:	Coleção Pesquisa Documental na Secretaria de Educação do Estado de Goiás: Redescobrimo a História da Educação de Jovens e Adultos - EJA em Goiás.
CÓDIGO DE REFERÊNCIA DA UNIDADE DE DESCRIÇÃO:	BRCMV-HEJAE-2021.01-007
TÍTULO DA UNIDADE DE DESCRIÇÃO:	Relatório dos exames de madureza - Realizados de 17 a 21 de Novembro de 1972
TOTAL DE IMAGENS DA UNIDADE DE DESCRIÇÃO:	159
POSIÇÃO/INTERVALO DA(S) IMAGEM(NS) SUBSTITUÍDA(S):	028-038
DATA DE SUBSTITUIÇÃO DE IMAGEM:	06/07/2021
RESPONSÁVEL PELA SUBSTITUIÇÃO:	Stephany Nascimento Lago e Walquíria Cunha Borges.

R E L A T Ó R I O D O S
E X A M E S D E M A D U R E Z A

NOVEMBRO DE 1972

MATEMÁTICA 1º CICLO

- a) PROVA DADA
- b) LISTA DE ASSINATURAS
- c) ATA

SECRETARIA DA EDUCAÇÃO E CULTURA
COORDENAÇÃO DOS EXAMES DE MADUREZA - COMPLEMENTARES
COLÉGIO ESTADUAL DE GOIÂNIA

Atas do Exames de Matemática - 1º ciclo

Aos 18 dias do mes de novembro do ano de 1972, às 8 horas, realizaram-se no Colégio Estadual de Goiânia provas de Matemática para complementação do curso de Madureza do 1º ciclo, com as seguintes ocorrências:

1- Banca Examinadora:

a) Prof. Ary Pereira da Silva

b) Prof. Nilson Pereira Brito

- 2) Nº de candidatos inscritos: 403
3) Nº de candidatos que fizeram exames: 388
4) Nº de candidatos faltosos: 15
5) Nº de candidatos aprovados: 9
6) Nº de candidatos reprovados: 379

Dado e passado no Colégio Estadual de Goiânia aos 18 de novembro de 1972.

1º) *Ary Pereira da Silva Ref. F 6416*

assinaturas:

2º) *Nilson Pereira Brito RF 31.655*

SECRETARIA DA EDUCAÇÃO E CULTURA
COORDENAÇÃO DOS EXAMES DE MADUREZA- COMPLEMENTARES

NOME DO CANDIDATO: _____

(Assinatura do candidato)

Nº DE INSCRIÇÃO: _____

PROVA DE MATEMÁTICA-

-----0000-----

Q U E S T Õ E S

- 1) Num divisão D é o dividendo, d é o divisor q é o quociente r é o resto.
- 2) Simplificar: $r = ?$
 $\sqrt{45} + \sqrt{20} + \sqrt{80} - \sqrt{5}$
- 3) Calcular x em: $\frac{3x - 1}{5} = \frac{x + 1}{2}$
- 4) Resolver o sistema: $\begin{cases} x + y = 9 \\ 2x - y = 15 \end{cases}$
- 5) Fatorar: $\frac{x^2 - 3}{x - \sqrt{3}}$
- 6) Achar os valores de m para os quais a equação $(m - 1)x^2 + mx + m - 3 = 0$ admite raízes reais e iguais.
- 7) Decomponha, em fatores do 1º grau, o trinômio $y = 4x^2 - 20x + 25$
- 8) Resolva: $\frac{x - 3}{x + 3} < 1$
- 9) Resolva: $\sqrt{3x + 1} = x - 1$
- 10) Qual o raio da circunferência que tem 5 m de comprimento ?
- 11) Resolva: $x^4 - 2x^2 + 1 = 0$
- 12) Num trapézio retângulo cuja base menor é igual à altura e esta é igual à metade da base maior. Calcular as diagonais sabendo que a base maior mede 8 m.

Cont.

- 13- O antecedente de uma razão é $\frac{3}{4}$. Calcular o valor do conseqüente sabendo que a razão é igual a 2.
- 14- Numa secção eleitoral de 440 eleitores, 110 não votaram. Qual foi a porcentagem da abstenção ?
- 15- Calcular a área do triângulo equilátero cujo lado mede 5 m.
- 16- Dois ângulos opostos pelo vértice são expressos em graus por $8x + 19$ e $12x - 1$, respectivamente. Calcular esses ângulos.
- 17- O ponto de concurso dos medianos chama-se ?
- 18- $C = \{ x \in \mathbb{R} / x \leq r \}$ $r \in \mathbb{R}$. Isto define um ?
- 19- A equação do 1º grau é representada graficamente por uma
- 20- Dados $A = \{ a, b, c \}$; $B = \{ m, a, b \}$, determine : $A \cup B$ e $A \cap B$

---000---



SERVIÇO PÚBLICO FEDERAL
MINISTÉRIO DA EDUCAÇÃO
UNIVERSIDADE FEDERAL DE GOIÁS
FACULDADE DE EDUCAÇÃO

FICHA DE SUBSTITUIÇÃO DE IMAGEM

ESTA FICHA INDICA QUE A IMAGEM NESTA POSIÇÃO DA UNIDADE DE DESCRIÇÃO EM SUPORTE DE PAPEL NÃO FOI MANTIDA NESTE REPRESENTANTE DIGITAL PARA FINS DE PROTEÇÃO DO DIREITO DE PRIVACIDADE, POIS NA REFERIDA IMAGEM EXISTEM DADOS PESSOAIS RELATIVOS À PESSOAS NATURAIS IDENTIFICADAS OU IDENTIFICÁVEIS.

AÇÃO/PROJETO:	Projeto de Pesquisa: Educação de Jovens e Adultos Trabalhadores em Goiás - relações entre o local e o nacional. Cadastro SIGAA PI0581-2017. (Agência de Fomento: CNPq).
RESPONSÁVEL PELA AÇÃO/PROJETO:	Prof. Maria Margarida Machado
ENTIDADE CUSTODIADORA:	Centro Memória Viva - Goiás
TÍTULO DO FUNDO/COLEÇÃO:	Coleção Pesquisa Documental na Secretaria de Educação do Estado de Goiás: Redescobrimo a História da Educação de Jovens e Adultos - EJA em Goiás.
CÓDIGO DE REFERÊNCIA DA UNIDADE DE DESCRIÇÃO:	BRCMV-HEJAE-2021.01-007
TÍTULO DA UNIDADE DE DESCRIÇÃO:	Relatório dos exames de madureza - Realizados de 17 a 21 de Novembro de 1972
TOTAL DE IMAGENS DA UNIDADE DE DESCRIÇÃO:	159
POSIÇÃO/INTERVALO DA(S) IMAGEM(NS) SUBSTITUÍDA(S):	043-057
DATA DE SUBSTITUIÇÃO DE IMAGEM:	06/07/2021
RESPONSÁVEL PELA SUBSTITUIÇÃO:	Stephany Nascimento Lago e Walquíria Cunha Borges.

RELATÓRIO DOS
EXAMES DE MADUREZA

NOVEMBRO DE 1972

GEOGRAFIA 1º CICLO

- a) PROVA DADA
- b) NOTAS FINAIS
- c) ATA

COORDENAÇÃO DOS EXAMES DE MADUREZA-COMPLEMENTARES

RELATÓRIO DA PROVA DE GEOGRAFIA - 1º CICLO

As 15 horas do dia 18 de novembro de 1972 nas salas de n.ºs. 15, 16, 17, 18 e 19 do Colégio Estadual de Goiânia, realizou-se a prova de Geografia do 1º ciclo com os seguintes dados:

Inscritos	Candidatos	
	Presentes	Ausentes
139	132	7

Os candidatos ausentes foram:

- 1- Adilson Cesar da Silva
- 2- Enio dos Santos Cristovam
- 3- Geralda Vieira da Conceição
- 4- Maria Esther Fontes Coelho
- 5- Maria Aparecida Costa Cruz
- 6- Nilza Alves Rezende
- 7- Olivério Teixeira Pereira.

Corrigidas as provas pela Banca Examinadora verificou-se o seguinte resultado:

<u>Presentes</u>	<u>Aprovados</u>	<u>Reprovados</u>	<u>% de Aprovação</u>
132	51	81	38%

Para constar fizemos o presente relatório que vai assinado pela Banca Examinadora.

Colégio Estadual de Goiânia aos 21 dias do mes de novembro de 1972.

Hercília S. L. Milazzo

Hercília S. L. Milazzo

Lúcia Toledo Siqueira

Lúcia Toledo Siqueira

SECRETARIA DA EDUCAÇÃO E CULTURA

COORDENAÇÃO DOS EXAMES DE MADUREZA-COMPLEMENTARES

NOME DO CANDIDATO: _____

(Assinatura do candidato)

Nº DE INSCRIÇÃO: _____

Prova de Geografia- 1º CICLO

I N S T R U Ç Õ E S

Nós lhe desejamos êxito na prova e, por isso, lhe recomendamos:

- a) Leia, com muita atenção, cada questão da prova antes de respondê-la.
- b) O mapa que você tem anexo servirá apenas para consulta. Nele nada deverá ser escrito.
- c) Nenhuma questão deverá ser rasurada; teste com rasura será teste nulo.

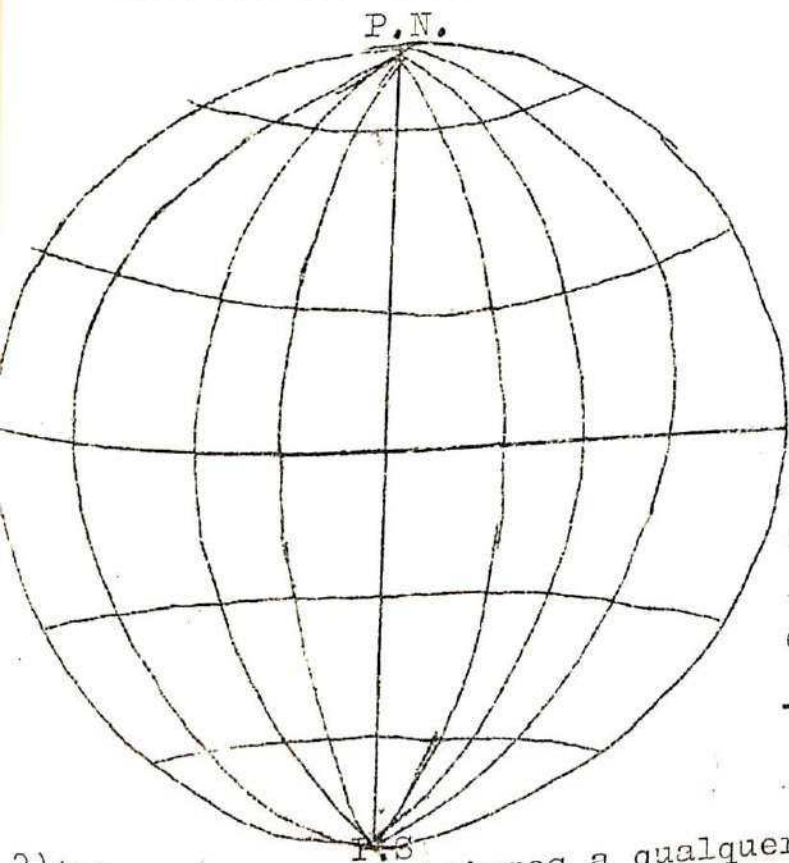
---000---

SM/mto

Leia com atenção os trechos que serão apresentados, para que possa responder corretamente as perguntas que se seguem.

1) Globo terrestre é o termo apropriado ao estudo da geografia quando se refere à Terra como planeta e superfície habitada. Neste globo traçam-se pontos, linhas e círculos para a exata localização de um ponto qualquer na superfície terrestre.

Dar a denominação correta:



a) dos círculos máximos que passam pelos pólos:

b) dos dois trópicos:

_____ e _____


c) da linha imaginária que divide a Terra em dois hemisférios, Norte e Sul:

d) da linha imaginária que divide a Terra em dois hemisférios oriental e ocidental:

2) Antes de nos dirigirmos a qualquer lugar, necessitamos nos orientar, ou seja, conhecer a direção ou rumo para determinar a posição exata dos lugares. Portanto, orientação é o ato de procurar um rumo no horizonte ou mesmo na leitura de um mapa.

a) A figura que indica os pontos Cardeais, colaterais e sub-colaterais, é conhecida pelo nome de: _____

b) Coloque na figura ao lado, os respectivos pontos cardeais e colaterais.



c) apesar da existência de moderno aparelho- a bússola- a orientação pelos astros é o processo mais comum empregado pelos homens há milênios.

O Sol nasce no _____ e se põe no _____

d) À noite, recorre-se à Lua e às estrelas como guia. No hemisfério norte a orientação à noite _____ e, no hemisfério _____

_____ feita por uma estrela chamada _____
ul, pelo _____

Cont.

- e) baseados nestas observações dos astros, os cientistas concluíram que o movimento da Terra em torno do Sol realiza-se na direção de _____ para _____, tendo como resultado os dias e as noites.
- 3) Tudo que a natureza oferece é uma riqueza em potencial. Apenas com o trabalho do homem estas riquezas se tornam reais. Somente quando a humanidade descobriu as aplicações da eletricidade passou também a aproveitar as águas correntes para gerar eletricidade, daí a construção de usinas hidrolétricas.
- a) NO Brasil, o maior conjunto hidroelétrico em construção, que terá destaque mundial, é o conjunto de _____ na bacia do rio _____
- b) Na bacia do São Francisco destacamos as companhias hidroelétricas de _____ e de _____
- c) A Usina de Furnas se localiza no rio _____ em Minas Gerais.
- 4) Quando os homens não encontram condições de sobrevivência, nos países ou regiões, em que vivem, emigram.
- a) ao movimento de entrada de grupos humanos em um país ou região, é dado o nome de _____ e ao movimento de saída de _____
- b) No Brasil, os nordestinos sentindo dificuldades em sua terra, têm emigrado em grande quantidade para as regiões _____ e _____
- c) Os países novos, como o Brasil, Estados Unidos e Argentina, são eminentemente países de emigração ou de imigração? _____

O país da América do Sul que surgiu da disputa entre argentinos e brasileiros, herdada dos espanhóis e portugueses, em torno da soberania na margem esquerda do Prata e depois de ter feito parte do Império do Brasil (com o nome de Província Cisplatina) tornou-se independente. O nome deste país é _____ que faz limite com um estado brasileiro cujo nome é _____

- Parte B (Valor- 2,0) Teste
- Na Ásia, as monções de verão são responsáveis pelo período de chuvas. () Errado () Certo
- O "loess" é um tipo de solo muito rico, encontrado na Ásia, formado de partículas muito finas trazidas pelo vento. () errado () certo

Cont.

- 3) A principal riqueza da Colômbia, país da América do Sul, é o petróleo.
() certo () errado
- 4) O Chile e o Uruguai são países andinos.
() certo () errado
- 5) A Indochina está localizada no noroeste da Ásia.
() certo () errado
- 6) Bélgica, Holanda e Alemanha Ocidental são países do Benelux.
() certo () errado
- 7) A principal riqueza do Texas, nos Estados Unidos é o petróleo.
() certo () errado
- 8) A produção agrícola favorecida pelas monções é o arroz.
() certo () errado
- 9) A taiga é um tipo de vegetação que não é encontrada na América do Sul.
() certo () errado
- 10) A Jordânia é um país do extremo oriente.
() certo () errado

Parte C (valor 2,0)

Marque "X" na resposta certa: haverá 4 alternativas, mas uma só é cor-
ret

- 1) Banhada a oeste pelo Oceano Atlântico, o Sul da Europa está com parte de suas costas voltadas para um grande mar.
Localize-o na relação abaixo.
() Mar Báltico
() Mar Cáspio
() Mar Mediterrâneo
() Mar Vermelho
- 2) O Cabo Kennedy, importante área de lançamentos espaciais, situa-se:
() no Texas
() na Califórnia
() na Flórida
() no Colorado
- 3) O maior porto exportador de minérios do Brasil localiza-se no:
() Rio de Janeiro
() Santos
() Vitória
() Ilhéus
- 4) As principais jazidas brasileiras de manganês estão situadas:
() no Amapá
() em Santa Catarina
() no Rio Grande do Sul
() no Ceará

Cont.

- 5) O Canal do Panamá liga:
- () o oceano Atlântico ao Índico
 - () o oceano Atlântico ao Mar Vermelho
 - () o mar Mediterrâneo do Mar Vermelho
 - () o oceano Pacífico ao Atlântico
- 6) A "camada" viva da Terra é chamada:
- () atmosfera
 - () Biosfera
 - () Litosfera
 - () Barisfera
- 7) A área petrolífera na África está localizada:
- () no norte da África
 - () no sul da África
 - () na África Oriental
 - () na África Central
- 8) Dos países abaixo relacionados, apenas um não pertence à região do Oriente Médio. Assinale-o:
- () Jordânia
 - () Israel
 - () Iraque
 - () Vietnã do Sul
- 9) No sudeste brasileiro, ocorrem lençóis de rochas vulcânicas do tipo basáltico; sua decomposição em clima tropical deu origem ao solo chama-do:
- () "massapé"
 - () "terra roxa"
 - () "tchernoziom" (terra negra)
 - () "loess" (terra amarela)
- 10) A criação do bicho-da-sêda é uma das atividades tradicionais dos cam-poneses da:
- () Índia
 - () Austria
 - () Estados Unidos
 - () China

Parte D (valor 1,6)

Com a ajuda do mapa anexo, responda:

- 1) O nome dos países da América do Sul, atravessados pela linha do Equador:
- a) _____
 - b) _____
 - c) _____

2) Escreva o nome dos países correspondentes aos números encontrados no mapa:

- 5: _____
- 2: _____
- 3: _____
- 4: _____
- 1: _____

---000---





SERVIÇO PÚBLICO FEDERAL
MINISTÉRIO DA EDUCAÇÃO
UNIVERSIDADE FEDERAL DE GOIÁS
FACULDADE DE EDUCAÇÃO

FICHA DE SUBSTITUIÇÃO DE IMAGEM

ESTA FICHA INDICA QUE A IMAGEM NESTA POSIÇÃO DA UNIDADE DE DESCRIÇÃO EM SUPORTE DE PAPEL NÃO FOI MANTIDA NESTE REPRESENTANTE DIGITAL PARA FINS DE PROTEÇÃO DO DIREITO DE PRIVACIDADE, POIS NA REFERIDA IMAGEM EXISTEM DADOS PESSOAIS RELATIVOS À PESSOAS NATURAIS IDENTIFICADAS OU IDENTIFICÁVEIS.

AÇÃO/PROJETO:	Projeto de Pesquisa: Educação de Jovens e Adultos Trabalhadores em Goiás - relações entre o local e o nacional. Cadastro SIGAA PI0581-2017. (Agência de Fomento: CNPq).
RESPONSÁVEL PELA AÇÃO/PROJETO:	Prof. Maria Margarida Machado
ENTIDADE CUSTODIADORA:	Centro Memória Viva - Goiás
TÍTULO DO FUNDO/COLEÇÃO:	Coleção Pesquisa Documental na Secretaria de Educação do Estado de Goiás: Redescobrimo a História da Educação de Jovens e Adultos - EJA em Goiás.
CÓDIGO DE REFERÊNCIA DA UNIDADE DE DESCRIÇÃO:	BRCMV-HEJAE-2021.01-007
TÍTULO DA UNIDADE DE DESCRIÇÃO:	Relatório dos exames de madureza - Realizados de 17 a 21 de Novembro de 1972
TOTAL DE IMAGENS DA UNIDADE DE DESCRIÇÃO:	159
POSIÇÃO/INTERVALO DA(S) IMAGEM(NS) SUBSTITUÍDA(S):	067-071
DATA DE SUBSTITUIÇÃO DE IMAGEM:	06/07/2021
RESPONSÁVEL PELA SUBSTITUIÇÃO:	Stephany Nascimento Lago e Walquíria Cunha Borges.

RELATÓRIO DOS
EXAMES DE MADUREZA

NOVEMBRO DE 1972

HISTÓRIA 1º CICLO

- a) PROVA DADA
- b) NOTAS FINAIS
- c) ATA

RELATORIO GERAL

Exames de Madureza

Disciplina: História

Ciclo: Primeiro

Local: Liceu Estadual de Goiânia

Horário: 15 horas

Goiânia, 17 de novembro de 1972.

1. Candidatos inscritos: 149

Candidatos presentes: 139

Candidatos ausentes: 10

2. Nomes dos alunos ausentes:

Anatália Gomes do Nascimento

Malaquias Alves Correia

Maria Esther Fontes Coelho

Paulo Cesar Ribeiro

Paulo Cesar Santana

Valdeci Lima Ornelas

Walter Francisco Sales

Walter Mendonça de Lima

José Mário Porto

Laudelino Moreira dos Santos

3. Salas: os alunos, divididos em cinco turmas ocuparam as salas número 22, 23, 24, 25, e 26.

4. Fiscais:

Sala 22: Nilton Mário Fiório

José Dias de Moraes Cunha

Sala 23: Hercília Milazzo

Sala 24: Isabel Dias Neves

Aurea Curado Fleury Teixeira

Sala 25: David Roberto

Maria Bernadete G.F. Curado

(continua)

RELATORIO GERAL -História-1º Ciclo -

(Continuação)

Sala 26: Eclea Campos Ferreira

5. Banca Examinadora:

Maria Sônia França e Sousa

José Dias de Moraes Cunha

6. Ocorrências extraordinárias:

Na sala 24, no início dos trabalhos houve transtorno com relação a assinaturas. Alguns candidatos que haviam feito prova na parte da manhã usaram letra de forma em lugar de assinatura. Corrigiu-se o erro solicitando-lhes que assinassem ao lado.

7. Encerramento da prova às 17 horas.

8. Elaborador desse relatório: José Dias de Moraes Cunha



José Dias de Moraes Cunha



Maria Sônia França e Sousa

Observação:

Alunos aprovados: 48
Alunos reprovados: 91

C O L E G I O E S T A D U A L D E G O I A N I A

E X A M E D E M A D U R E Z A

Prova de História - 1º ciclo

Nome do Candidato:

Data:

Nota:

Professor:

O B S E R V A Ç Õ E S:

1. Antes de responder as questões, leia com muita atenção.
2. Não rasure, não rabisque para não anular a questão.
3. Responda assinalando com um "X" a letra de sua preferência (a - b - c - d -). Use para isso a outra folha quadriculada.
4. Risque com o "X" uma letra só. Mais de um "X" anula a questão.
5. Escreva sempre a tinta, nunca a lápis.
6. Não converse. Não olhe a prova do colega.
7. Assine a prova e a lista de presença com letra bem legível, mas não use letra de forma pois isso anula a prova.
8. Boa sorte é o que lhe deseja a Banca Examinadora.

Q U E S T Ç E S

1. Quem descobriu o caminho das Índias foi:
 - a) Cristovão Colombo
 - b) Pedro Alvares Cabral
 - c) Vasco da Gama
 - d) Bartolomeu Dias
2. Qual a providência tomada pela coroa portuguesa para corrigir os erros do sistema de capitânias:
 - a) Dissolveu as capitânias
 - b) Instituiu o Governo Geral
 - c) Mandou dinheiro e gente para ajudar os donatários
 - d) Subdividiu as Capitânias
- 3). O 1º Governador-Geral foi:
 - a) Mem de Sá
 - b) Tomé de Sousa
 - c) Duarte da Costa
 - d) Camamu

4. A Bandeira de Fernão Dias Pais:

- a) preparou o terreno para a ocupação do atual Estado do Rio Grande do Sul
- b) encontrou o caminho para o centro do atual Estado de Minas Gerais.
- c) destruiu o Quilomba dos Palmares
- d) explorou a fronteira com o atual Uruguai

5. Quando D. Pedro partiu para a Província de S. Paulo deixou a Regência entregue a:

- a) José Bonifácio
- b) Gonçalves Ledo
- c) Princesa Da Leopoldina
- d) Benjamin Constant

6. Os patriotas da Conjuração Mineira foram inspirados pelo exemplo da:

- a) Revolução Francesa
- b) Revolução do Porto
- c) Inconfidência Baiana
- d) Revolução Pernambucana

7. A maior parte das questões de limites entre o Brasil e os países sul-americanos foi defendida pelo:

- a) duque de Caxias
- b) visconde de Ouro Preto
- c) barão do Rio Branco
- d) barão de Cotegipe

8. Governo da República que empreendeu a construção da Estrada Transamazônica:

- a) Juscelino Kubitschek
- b) Getúlio Vargas
- c) Emilio Garrastazu Medici
- d) Campos Sales

9. Getúlio Vargas foi deposto em:

- a) 1945
- b) 1943
- c) 1937
- d) 1934

10. O Presidente Rodrigues Alves combateu as epidemias do Rio de Janeiro encarregando deste trabalho:

- a) o engenheiro Santos Dumont
- b) o ministro Joaquim Muniz
- c) o cientista Oswaldo Cruz
- d) o coronel Cândido Rondon

11. O culto monoteísta de Aton e o primeiro conceito universal de Deus foram estabelecidos no Egito por:

- a) Menés
- b) Amenofis IV
- c) Amenemá III
- d) Tutmés III

12. O grande Rei hebreu unificador das tribos hebraicas, vencedor dos Filisteus e autor dos "Salmos" foi:

- a) Saul
- b) Davi
- c) Salomão
- d) Roboão

13. A principal atividade econômica dos fenícios era:

- a) agricultura
- b) indústria
- c) comércio marítimo
- d) pesca

14. Um grande orador grego foi:

- a) Demóstenes
- b) Apeles
- c) Sofocles
- d) Hipócrates

15. Uma figura de projeção na Segunda Guerra Púnica foi:

- a) Aníbal
- b) Diocleciano
- d) Constantino

16. Notável califa, sogro de Maomé, que reuniu os capítulos do Alcorão e iniciou a expansão militarista, foi:

- a) Abu Bacre
- b) Omar
- c) Otã
- d) Ali

17. Os fidalgos franceses, descontentes com o rei Carlos, o Simples, e com os seus sucessores incapazes, elegeram um novo rei:

- a) Hugo Capeto
- b) Luís VI
- c) Filipe Augusto
- d) Filipe o Belo

18. O Papa Urbano II convidou os príncipes cristãos a pegarem as armas contra os infiéis, em 1095, no Concílio de:

- a) Niceia

b) Efeso

c) Trento

d) Clermont

19. Sede da mais famosa hansa - a liga Hanseática ou Teutônica:

- a) Marselha
- b) Bruges
- c) Veneza
- d) Lubek

20. O primeiro período da Guerra dos Cem Anos terminou com a assinatura do:

- a) Tratado de Brétigny
- b) Tratado de Troyes
- c) Tratado de Verdun
- d) Tratado de Spira

21. Político, filósofo e líder separatista da Índia, que foi assassinado por um fanático em 1948:

- a) Nehru
- b) Gandhi
- c) Bao-Dai
- d) Rabin

22. A Guerra do Ópio ocorreu:

- a) na Índia
- b) na China
- c) na África
- d) na Austrália

23. O mais notável ministro da rainha Vitória foi:

- a) Roberto Peel
- b) Russel
- c) Melburne
- d) Disraeli

24. Na Guerra Franco-Prussiana, Napoleão III foi derrotado e preso em:

- a) Berlim
- b) Modena
- c) Ulm
- d) Sedan

25. O "Direito de Intervenção", segundo o qual as nações européias interviriam onde quer que as monarquias estivessem ameaçadas, foi defendido por:

- a) James Monroe
- b) Metternich
- c) Luis Blanc
- d) Gournay

26. A "Declaração dos Direitos do Homem e do Cidadão" foi promulgada no período revolucionário denominado:

- a) Estados Gerais
- b) Assembléia Constituinte
- c) Assembléia Legislativa
- d) Convenção

27. Com a reação terridorianiana de 1794, Robespierre:
- a) consolidou o seu governo ditatorial
 - b) recebeu apoio da burguesia
 - c) mandou massacrar o povo
 - d) foi executado com seus cúmplices
28. Aventureiro espanhol, conquistador do México:
- a) Fernão Cortês
 - b) Francisco Pizarro
 - c) Pedro Valdívia
 - d) Francisco Orellana
29. Napoleão foi vencido definitivamente em:
- a) Ulm
 - b) Borodino
 - c) Waterloo
 - d) Marengo
30. Napoleão morreu em 1821 em:
- a) Elba
 - b) França
 - c) Ilha de Santa Helena
 - d) Inglaterra
31. Autor da Divina Comédia:
- a) Petrarca
 - b) Dante
 - c) Boccaccio
 - d) Erasmo
32. Autor da "Santa Ceia":
- a) Leonardo da Vinci
 - b) Rafael
 - c) Ticiano
 - d) Miguel Angelo
33. Mecenas era:
- a) o protetor dos artistas
 - b) o rei de Creta
 - c) um grande navegador
 - d) um pintor
34. Lutou pela unificação da Itália:
- a) Cavour
 - b) Pio IX
 - c) Bismarck
 - d) Ebert
35. Choque de interesses econômicos, questão dos escravos e diferença de religião foram as causas da Guerra de Secessão que assinalou o governo de:

a) Washington

b) Lincoln

c) Monroe

d) Grant

36. A frase "O Egito é um presente do Nilo" é de:

a) Tucídides

b) Xenofonte

c) Sócrates

d) Heródoto

37. Decifrou os hieroglifos.

a) Champollion

b) Napoleão

c) Einstein

d) Chambard

38. Soberano amorita, autor do primeiro código de leis completo da História:

a) Sargão I

b) Sargão II

c) Nabopolassar

d) Hamurabi

39. A pacificação das Províncias, divisão do Império em satrapias, cunhagem de moedas, construção de estradas estão relacionados com o nome de:

a) Astíages

b) Ciro

c) Dario I

d) Artaxerxes

40. Organizador do Mazdeísmo:

a) Creso

b) Zoroastro

c) Avesta

d) Mazda

FIM

COLEGIO ESTADUAL DE GOIANIA

PROVA DE

ALUNO (A)

CICLO.....Nº de INSCRIÇÃO.....

FOLHA DE RESPOSTAS

	a	b	c	d
01				
02				
03				
04				
05				
06				
07				
08				
09				
10				
11				
12				
13				
14				
15				
16				
17				
18				
19				
20				

	a	b	c	d
21				
22				
23				
24				
25				
26				
27				
28				
29				
30				
31				
32				
33				
34				
35				
36				
37				
38				
38				
39				
40				

Nº DE RESPOSTAS: _____

NOTA: _____



SERVIÇO PÚBLICO FEDERAL
MINISTÉRIO DA EDUCAÇÃO
UNIVERSIDADE FEDERAL DE GOIÁS
FACULDADE DE EDUCAÇÃO

FICHA DE SUBSTITUIÇÃO DE IMAGEM

ESTA FICHA INDICA QUE A IMAGEM NESTA POSIÇÃO DA UNIDADE DE DESCRIÇÃO EM SUPORTE DE PAPEL NÃO FOI MANTIDA NESTE REPRESENTANTE DIGITAL PARA FINS DE PROTEÇÃO DO DIREITO DE PRIVACIDADE, POIS NA REFERIDA IMAGEM EXISTEM DADOS PESSOAIS RELATIVOS À PESSOAS NATURAIS IDENTIFICADAS OU IDENTIFICÁVEIS.

AÇÃO/PROJETO:	Projeto de Pesquisa: Educação de Jovens e Adultos Trabalhadores em Goiás - relações entre o local e o nacional. Cadastro SIGAA PI0581-2017. (Agência de Fomento: CNPq).
RESPONSÁVEL PELA AÇÃO/PROJETO:	Prof. Maria Margarida Machado
ENTIDADE CUSTODIADORA:	Centro Memória Viva - Goiás
TÍTULO DO FUNDO/COLEÇÃO:	Coleção Pesquisa Documental na Secretaria de Educação do Estado de Goiás: Redescobrimo a História da Educação de Jovens e Adultos - EJA em Goiás.
CÓDIGO DE REFERÊNCIA DA UNIDADE DE DESCRIÇÃO:	BRCMV-HEJAE-2021.01-007
TÍTULO DA UNIDADE DE DESCRIÇÃO:	Relatório dos exames de madureza - Realizados de 17 a 21 de Novembro de 1972
TOTAL DE IMAGENS DA UNIDADE DE DESCRIÇÃO:	159
POSIÇÃO/INTERVALO DA(S) IMAGEM(NS) SUBSTITUÍDA(S):	082-086
DATA DE SUBSTITUIÇÃO DE IMAGEM:	06/07/2021
RESPONSÁVEL PELA SUBSTITUIÇÃO:	Stephany Nascimento Lago e Walquíria Cunha Borges.

RELATÓRIO DOS
EXAMES DE MADUREZA

NOVEMBRO DE 1972

CIÊNCIAS 1º CICLO

- a) PROVA DADA
- b) LISTA DE ASSINATURAS
- c) NOTAS FINAIS
- d) ATA

SECRETARIA DA EDUCAÇÃO E CULTURA
COORDENAÇÃO DOS EXAMES DE MADUREZA COMPLEMENTARES

CICLO: 1º

DISCIPLINA: CIÊNCIAS

REALIZAÇÃO: 17/11/72

RELATÓRIO

01 - INÍCIO DA PROVA: 10,0 HORAS
02 - TÉRMINO: 12,0 HORAS


01.1 - CANDIDATOS INSCRITOS: 165
01.2 - " PRESENTES: 157
01.3 - " AUSENTES: 8

02.1 - CANDIDATOS APROVADOS: 62
02.2 - " REPROVADOS: 65
02.3 - RELAÇÃO PROPORCIONAL DE APROVADOS: 38%

03.1 - OCORRÊNCIAS EXTRAORDINÁRIAS: NENHUMA

04.1 - BANCA EXAMINADORA:
EMILSON TAVARES DE BRITO
CORÁLIA DE PAIVA ROCHA

GOIÂNIA, 17 DE NOVEMBRO DE 1972


EMILSON TAVARES DE BRITO - REG. D- 37555


CORÁLIA DE PAIVA ROCHA - REG. D- 41094

SECRETARIA DA EDUCAÇÃO E CULTURA
COORDENAÇÃO DOS EXAMES DE MADUREZA COMPLEMENTARES

PROVA DE CIÊNCIAS
1º CICLO

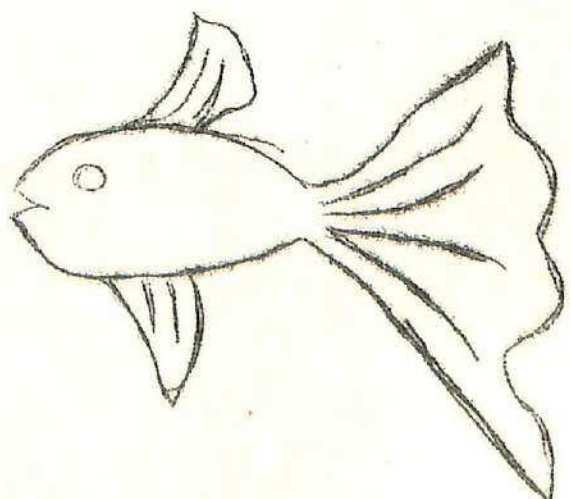

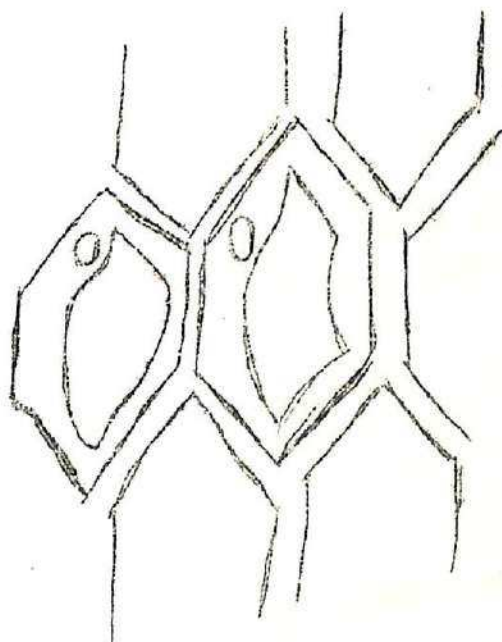
NOME DO CANDIDATO: _____

ASSINATURA DO CANDIDATO: _____

Nº DE INSCRIÇÃO: _____

NOTA: _____

RUBRICA DOS PROFESSORES: _____



SECRETARIA DE EDUCAÇÃO E CULTURA
COORDENAÇÃO DOS EXAMES DE MADUREZA COMPLEMENTARES
NOME DO CANDIDATO: _____

(ASSINATURA DO CANDIDATO)

Nº DE INSCRIÇÃO: _____
PROVA DE CIÊNCIAS - 1º CICLO

1ª PARTE:

ASSINALE A(S) AFIRMATIVA(S) QUE JULGAR CORRETA(S)
1ª) A PRESSÃO ATMOSFERICA VALE 1 ATMOSFERA:

- A) EM QUALQUER LOCAL
- B) EM SANTOS
- C) APENAS EM ALTAS ALTITUDES
- D) N.R.C

2ª) O GAS QUE CONSEGUE APAGAR UMA CHAMA E O:

- A) OXIGÊNIO
- B) HIDROGÊNIO
- C) GAS CARBÔNICO
- D) N.R.C.

3ª) ÁGUA POTÁVEL E AQUELA QUE:

- A) É BOA PARA BEBER
- B) FAZ MAL À SAÚDE
- C) É GUARDADA EM POTES
- D) N.R.C.

4ª) OS SUBMARINOS APRESENTAM PAREDES BEM RESISTENTES DEVIDO:

- A) A PRESSÃO ALTA DA ÁGUA NAS PROFUNDIDADES
- B) A PRESENÇA DE TUBARÕES NO MAR
- C) A PRESENÇA DE BALEIAS NO MAR
- D) N.R.C

5ª) SÃO DERIVADOS DO PETRÓLEO:

- A) CARVÃO, GASOLINA, ASFALTO
- B) CARVÃO, GASES COMBUSTÍVEIS, QUEROSENE
- C) GASOLINA, ASFALTO, PARAFINA
- D) GASOLINA, PARAFINA, CARVÃO

6ª) SOLO FORMADO PRINCIPALMENTE DE RESTOS ANIMAIS E VEGETAIS SÃO
CHAMADOS:

- A) HUMOSO
- B) ARGILOSO
- C) ARENOSO
- D) CALCÁRIO

7ª) MECÂNICA É A PARTE DA FÍSICA QUE ESTUDA:

- A) CINEMÁTICA, ACÚSTICA, DINÂMICA
- B) ESTÁTICA, ÓPTICA, DINÂMICA
- C) ELETRICIDADE, ESTÁTICA, CINEMÁTICA
- D) ESTÁTICA, CINEMÁTICA, DINÂMICA

8ª) COMPARANDO A SOLIDIFICAÇÃO DA ÁGUA COM A DA PARAFINA, VOCE

CONCLUI QUE:

- A) SUBSTÂNCIAS DIFERENTES SE SOLIDIFICAM EM TEMPERATURAS IGUAIS
- B) SUBSTÂNCIAS DIFERENTES SE SOLIDIFICAM EM TEMPERATURA DIFERENTES
- C) ENQUANTO A SUBSTÂNCIA ESTÁ SE SOLIDIFICANDO HÁ MODIFICAÇÃO DA TEMPERATURA
- D) N.R.C.

9ª) MENOR QUANTIDADE DE MATERIA QUE CONSERVA AS SUAS PROPRIEDADES É

- A) MATERIA
- B) MOLECULA
- C) ATOMO
- D) N.R.C

10ª) SÃO PARTICULAS ATÔMICAS:

- A) MOLECULA, NEUTRON, ANGSTRON
- B) NEUTRON, ANGSTRON, MESON
- C) ELETRON, MOLECULA, PROTON
- D) ELETRON, NEUTRON, PROTON

11ª) UM CORPO "A" TEM MAIS QUANTIDADE DE MATERIA QUE UM CORPO "B",

LOGO:

- A) "A" TEM MENOS MASSA QUE "B"
- B) "A" TEM MAIOR MASSA QUE "B"
- C) "A" TEM A MESMA MASSA QUE "B"
- D) N.R.C.

12ª) COMPARE AS COLUNAS:

- A) SÓDIO
- B) ALUMÍNIO
- C) POTÁSSIO
- D) CARBONO
- E) CLORO

- () NA
- () C
- () CA
- () AL
- () K
- () PO
- () SO
- () CL

13ª) NUMERE A 2ª COLUNA DE ACÓRDO COM A 1ª:

- | | |
|----------------|--|
| A) ALTURA | () SOM ABAIXO DE 16 VIBRAÇÕES/SEGUNDO |
| B) TIMBRE | () PERMITE RECONHECER AS FONTES SONORAS PRODUTORAS DO SOM |
| C) ECO | () O SOM É REFORÇADO |
| D) INFRA-SOM | () PERMITE DISTINÇÃO ENTRE SOM FORTE E SOM FRACO |
| E) INTENSIDADE | () PERMITE DISTINÇÃO ENTRE SOM AGUDO E SOM GRAVE |
| | () REPETIÇÃO DO SOM |

14ª) MARQUE COM "C" AS RESPOSTAS CERTAS E COM "E" AS RESPOSTAS

ERRADAS:

- A) A LUZ SE PROPAGA EM LINHA RETA, NUMA SÓ DIREÇÃO
- B) À MEDIDA QUE NOS APROXIMAMOS DE UM ESPELHO PLANO, A IMAGEM TAMBÉM SE APROXIMA
- C) A LUZ SE PROPAGA EM LINHA RETA, EM TODAS AS DIREÇÕES
- D) REFRAÇÃO É O DESVIO QUE SOFRE UM RAIOS LUMINOSO AO PASSAR DE UM MEIO PARA OUTRO MEIO.

ASSINALE A(S) ALTERNATIVA(S) ERRADA(S):

15ª) SOLUÇÃO DILUIDA É:

- A) POUCA QUANTIDADE DE DISSOLVIDO
- B) POUCA QUANTIDADE DE SOLVENTE
- C) GRANDE QUANTIDADE DE SOLVENTE E DISSOLVIDO
- D) TODAS AS RESPOSTAS ESTÃO CORRETAS

16ª) COLOQUE F(FALSO) OU V (VERDADEIRO):

- A) A SUBSTÂNCIA ÁGUA É UMA SUBSTÂNCIA COMPOSTA
- B) NO NUCLEO DO ÁTOMO ENCONTRAM-SE PROTONS E ELETRONS
- C) TODA MATERIA CONSTITUI UM CORPO
- D) TODO CORPO É CONSTITUIDO DE MATERIA
- E) AO REDOR DO NUCLEO ESTÃO OS PROTONS

ASSINALE A AFIRMATIVA CORRETA:

17ª) A FERRUGEM CONSISTE EM:

- A) COMBINAÇÃO QUIMICA ENTRE O FERRO E O OXIGÊNIO
- B) NUM FENOMENO FISICO ENTRE FERRO E OXIGÊNIO
- C) MUMA COMBINAÇÃO QUIMICA ENTRE O FERRO E A UMIDADE
- D) A, B, C ESTÃO CORRETAS

CONT.

13ª) NUMERE A 2ª COLUNA DE ACORDO COM A 1ª:

- | | |
|----------------|--|
| A) ALTURA | () SOM ABAIXO DE 16 VIBRAÇÕES/SEGUNDO |
| B) TIMBRE | () PERMITE RECONHECER AS FONTES SONORAS PRODUTORAS DO SOM |
| C) ECO | () O SOM É REFORÇADO |
| D) INFRA-SOM | () PERMITE DISTINÇÃO ENTRE SOM FORTE E SOM FRACO |
| E) INTENSIDADE | () PERMITE DISTINÇÃO ENTRE SOM AGUDO E SOM GRAVE |
| | () REPELIÇÃO DO SOM |

14ª) MARQUE COM "C" AS RESPOSTAS CERTAS E COM "E" AS RESPOSTAS

ERRADAS:

- A) A LUZ SE PROPAGA EM LINHA RETA, NUMA SÓ DIREÇÃO
- B) À MEDIDA QUE NOS APROXIMAMOS DE UM ESPELHO PLANO, A IMAGEM TAMBÉM SE APROXIMA
- C) A LUZ SE PROPAGA EM LINHA RETA, EM TODAS AS DIREÇÕES
- D) REFRAÇÃO É O DESVIO QUE SOFRE UM RAIOS LUMINOSO AO PASSAR DE UM MEIO PARA OUTRO MEIO.

ASSINALE A(S) ALTERNATIVA(S) ERRADA(S):

15ª) SOLUÇÃO DILUIDA É:

- A) POUCA QUANTIDADE DE DISSOLVIDO
- B) POUCA QUANTIDADE DE SOLVENTE
- C) GRANDE QUANTIDADE DE SOLVENTE E DISSOLVIDO

TODAS AS RESPOSTAS ESTÃO CORRETAS

16ª) COLOQUE F (FALSO) OU V (VERDADEIRO):

- A) A SUBSTÂNCIA ÁGUA É UMA SUBSTÂNCIA COMPOSTA
- B) NO NUCLEO DO ÁTOMO ENCONTRAM-SE PROTONS E ELETRONS
- C) TODA MATERIA CONSTITUI UM CORPO
- D) TODO CORPO É CONSTITUIDO DE MATERIA
- E) AO REDOR DO NUCLEO ESTÃO OS PROTONS

ASSINALE A AFIRMATIVA CORRETA:

17ª) A FERRUGEM CONSISTE EM:

- A) COMBINAÇÃO QUIMICA ENTRE O FERRO E O OXIGÊNIO
- B) NUM FENOMENO FISICO ENTRE FERRO E OXIGÊNIO
- C) MUMA COMBINAÇÃO QUIMICA ENTRE O FERRO E A UMIDADE
- D) A, B, C ESTÃO CORRETAS

CONT.

18ª) SÃO APLICAÇÕES DO AR RAREFEITO:

- A) ASPIRADOR, EXAUSTOR, ELEVADOR DE CARRO
- B) FREIO DE VEICULO, ASPIRADOR, EXAUSTOR
- C) BOLA DE FUTEBOL, FREIO DE VEICULOS, ELEVADOR DE CARRO
- D) ASPIRADOR, EXAUSTOR, BOMBA DE CISTERNA

19ª) SÃO APLICAÇÕES DO AR COMPRIMIDO:

- A) ELEVADOR DE CARRO, EXAUSTOR, ESPINGARDA DE PRESSÃO
- B) ESPINGARDA DE PRESSÃO, EXAUSTOR, FREIO DE CARRO
- C) BOLA DE FUTEBOL, ESPINGARDA DE PRESSÃO, ELEVADOR DE CARRO
- D) N.R.C

MARQUE F (FALSO) OU V (VERDADEIRO), NAS AFIRMATIVAS ABAIXO:

20ª)

- A) A FORÇA DE ATRAÇÃO DE UM IMÃ RECEBE O NOME DE MAGNETISMO
- B) O PAPEL É EXEMPLO DE SUBSTÂNCIA MAGNETICA
- C) O VIDRO É CONDUTOR E O COBRE É ISOLANTE
- D) A CORRENTE ELETRICA GERA O MAGNETISMO
- E) ELETRICIDADE DE SINAIS CONTRÁRIOS SE ATRAEM E ELETRICIDADE DE SINAIS IGUAIS SE REPELEM

OBSERVAÇÃO:

PASSAR AS RESPOSTAS PARA O ESPAÇO ABAIXO, COMO SE PEDE:

1ª QUESTÃO: _____

2ª QUESTÃO: _____

3ª QUESTÃO: _____

4ª QUESTÃO: _____

5ª QUESTÃO: _____

6ª QUESTÃO: _____

7ª QUESTÃO: _____

8ª QUESTÃO: _____

9ª QUESTÃO: _____

10ª QUESTÃO: _____

11ª QUESTÃO: _____

14ª QUESTÃO: _____

15ª QUESTÃO: _____

16ª QUESTÃO: _____

17ª QUESTÃO: _____

18ª QUESTÃO: _____

19ª QUESTÃO: _____

20ª QUESTÃO: _____

FIM DA 1ª PARTE:

2ª PARTE:

1ª) OS VEGETAIS E ANIMAIS SÃO SERES VIVOS. CITAR TRÊS CARACTERÍSTICAS QUE CONFIRMAM ISTO:

- A) _____
- B) _____
- C) _____

2ª) AS CÉLULAS SÃO FORMADAS POR INÚMEROS ELEMENTOS, MAS TRÊS PARTES SÃO COMUNS A TODAS:

- A) _____
- B) _____
- C) _____

3ª) AS BACTÉRIAS PATOGENICAS "X" NO RETÂNGULO CERTO:

- SÃO BENEFICAS AO HOMEM
- SÃO INÓCUAS AO HOMEM
- SÃO PRODUTORAS DE DOENÇAS NO HOMEM
- N. A. C.

4ª) AS PARTES DA RAIZ:

5ª) OS GOMOS AXILARES FAZEM PARTE: "X" NO RETÂNGULO CERTO

- DO FRUTO
- DA SEMENTE
- DA FLOR
- DA FOLHA
- DO CAULE
- DA RAIZ
- N.A.C.

DIZ-SE QUE UMA FLOR É HERMAFRODITA QUANDO ELA TEM _____; E APARELHO REPRODUTOR MASCULINO, FORMADO DE _____, APARELHO REPRODUTOR FEMININO, FORMADO DE _____.

6ª) DA-SE O NOME DE POLINIZAÇÃO AO _____

8ª) UMA FOLHA COMPLETA APRESENTA AS SEGUINTE PARTES: (DEFINI-LAS)

- A) _____

- b) _____

- c) _____

9ª) O ABACAXI É UM FRUTO:

- SIMPLES
 MULTÍPLO
 COMPOSTO
 NÃO É FRUTO

10ª) PARA QUE SE REALIZE A FOTOSÍNTESE SÃO NECESSÁRIOS:

- A) _____
B) _____
C) _____

11ª) COLOQUE UM "X" NO PARENTESE CERTO:

- OS PROTOZOÁRIOS SÃO MICROBIOS E OS METAZOÁRIOS SÃO MACRÓBIOS
 OS PROTOZOÁRIOS SÃO MACROSCÓPIOS E OS METAZOÁRIOS SÃO MICROS =
CÓPICOS
 OS PROTOZOÁRIOS SÃO PATOGENICOS E OS METAZOÁRIOS SÃO SAPROFITAS
 OS PROTOZOÁRIOS SÃO VEGETAIS E OS METAZOÁRIOS SÃO ANIMAIS
 N.R.C.

12ª) A BALEIA É UM: "X" NO PARENTESE CERTO:

- ROEDOR
 CARNÍVORO
 PEIXE
 MAMÍFERO
 REPTIL
 N.R.C.

13ª) NESTE ESPAÇO FAÇA O DESENHO DE UMA PENA DE AVE, E INDIQUE SUAS PARTES:

14a) A CARNE DE PORCO TRANSMITE AO HOMEM CERTAS DOENÇAS; PARA EVITAR ISTO DEVEMOS _____

15a) OS OSSOS IMPARES DO CRÂNIO SÃO: _____

16a) ESCREVA A FRASE ABAIXO NOVAMENTE, USANDO PALAVRAS DIFERENTES SEM MUDAR O SENTIDO DAMESSA:
" O MICOPE ENXERGA MELHOR AS COISAS DE PERTO."

17a) A URINA, PARA SER EXCRETADA, PASSA POR QUAIS ORGÃOS? _____

18a) O CORAÇÃO CONTRAÍDO ESTÁ EM _____, E RELAXADO ESTÁ EM _____

19a) QUANTOS DENTES INCISIVOS TEM UMA PESSOA ADULTA? _____

20a) NOSSA VIDA DE RELAÇÃO É EXERCIDA PELOS SEGUINTE ORGÃOS: _____



SERVIÇO PÚBLICO FEDERAL
MINISTÉRIO DA EDUCAÇÃO
UNIVERSIDADE FEDERAL DE GOIÁS
FACULDADE DE EDUCAÇÃO

FICHA DE SUBSTITUIÇÃO DE IMAGEM

ESTA FICHA INDICA QUE A IMAGEM NESTA POSIÇÃO DA UNIDADE DE DESCRIÇÃO EM SUPORTE DE PAPEL NÃO FOI MANTIDA NESTE REPRESENTANTE DIGITAL PARA FINS DE PROTEÇÃO DO DIREITO DE PRIVACIDADE, POIS NA REFERIDA IMAGEM EXISTEM DADOS PESSOAIS RELATIVOS À PESSOAS NATURAIS IDENTIFICADAS OU IDENTIFICÁVEIS.

AÇÃO/PROJETO:	Projeto de Pesquisa: Educação de Jovens e Adultos Trabalhadores em Goiás - relações entre o local e o nacional. Cadastro SIGAA PI0581-2017. (Agência de Fomento: CNPq).
RESPONSÁVEL PELA AÇÃO/PROJETO:	Prof. Maria Margarida Machado
ENTIDADE CUSTODIADORA:	Centro Memória Viva - Goiás
TÍTULO DO FUNDO/COLEÇÃO:	Coleção Pesquisa Documental na Secretaria de Educação do Estado de Goiás: Redescobrimo a História da Educação de Jovens e Adultos - EJA em Goiás.
CÓDIGO DE REFERÊNCIA DA UNIDADE DE DESCRIÇÃO:	BRCMV-HEJAE-2021.01-007
TÍTULO DA UNIDADE DE DESCRIÇÃO:	Relatório dos exames de madureza - Realizados de 17 a 21 de Novembro de 1972
TOTAL DE IMAGENS DA UNIDADE DE DESCRIÇÃO:	159
POSIÇÃO/INTERVALO DA(S) IMAGEM(NS) SUBSTITUÍDA(S):	098-103
DATA DE SUBSTITUIÇÃO DE IMAGEM:	06/07/2021
RESPONSÁVEL PELA SUBSTITUIÇÃO:	Stephany Nascimento Lago e Walquíria Cunha Borges.

RELATÓRIO DOS
EXAMES DE MADUREZA

NOVEMBRO DE 1972

E.M.C. 1º CICLO

- a) PROVA DADA
- b) LISTA DE ASSINATURAS
- c) NOTAS FINASI
- d) ATA

RELATÓRIO GERAL

Exame de Madureza

Disciplina: Educação Moral e Cívica

Ciclo: 1º

Local: Colégio Estadual de Goiânia

Horário: 18 horas

Data: 17/11/72

01. Candidatos:

Inscritos: 157

Presentes: 142

Ausentes: 15

02. Salas: Os candidatos, divididos em cinco turmas ocuparam as salas: 15, 16, 17, 18 e 21.

03. Nomes dos Candidatos ausentes:

sala 15: 01. Anatalia Gomes do Nascimento

sala 16: 01. Edson David Ferreira

sala 17: 01. Ildefonso Pio de Almeida

" " 02. José Pinheiro da Cruz

" " 03. Joaquim Afonso de Almeida

" " 04. José Baltazar Moreira

sala 18: 01. Maria das Graças Piccoli

" " 02. Milton Pereira de Azevedo

sala 21: 01. Murilo Maia Dias

" " 02. Tito Livio Leal

" " 03. Vander Felipe do Nascimento

" " 04. Valdeci Lima Orneles

" " 05. Volneir Gomes Moraes

" " 06. Waldir Sebastião de Almeida

" " 07. Wilson Duarte Cantuário.

04. Quatro Fiscais: Ary Pereira da Silva

Nilson Pereira de Brito

Aurea Curado Fleury Teixeira

David Roberto Barbosa

Nilton Mário Fioris

Agenor Pedroso

Maria Bernadete Gonçalves Fleury Curado

05. Banca Examinadora:

Neide França Pereira

Maria Sônia França e Souza

06. Índice de Aprovação:

Candidatos aprovados= 104

Candidatos reprovados= 38

07. Ocorrência Extraordinária:

nenhuma

08. Encerramento:

20 Horas.

Assinatura da Banca Examinadora

Neide França Pereira
Neide França Pereira

Maria Sônia França e Souza

MORAL E CIVICA
1º CICLO

- 1º) EM CADA QUESTÃO EXISTE APENAS UMA ALTERNATIVA A ESCOLHER
- 2º) ENCONTRANDO-A, DEVERÁ MARCAR A LETRA NA QUESTÃO CORRESPONDENTE NA FOLHA DE RESPOSTA.
- 3º) SÓ ASSINALE QUANDO TIVER CERTEZA, POIS QUESTÃO RASURADA É QUESTÃO NULA.
- 4º) N.R.C. (NENHUMA RESPOSTA CORRETA)
- 5º) NÃO HÁ SUBSTITUIÇÃO DE FOLHA DE RESPOSTAS.
- 6º) O VALOR DE CADA QUESTÃO É DE 0,25.
- 7º) DESEJAMOS-LHE FELICIDADES, E QUE FAÇA UMA BOA PROVA.

" PROCLAMAMOS A VOCAÇÃO ALTISSIMA DO
HOMEM, AFIRMANDO NELE EXISTIR UMA SE
MENTE DIVINA."
(CONCILIO VATICANO II)

Assinale a resposta certa:

1- Grupo social fundamental onde recebemos a primeira educação:

- a) Escola
- b) Família
- c) Organização
- d) Pátria

2- São parentes consanguíneos:

- a) Os cônjuges
- b) Pais e filhos, primos, tios
- c) Sogro, genro e nora
- d) Nenhum desses

3- A atuação consciente de uma geração sobre outra com o propósito de aprimorar seu aperfeiçoamento:

- a) Herança
- b) Imposição
- c) Educação
- d) N.R.C.

4- A educação integral tem por finalidade:

- a) Formar o homem em sua integridade física, intelectual e moral.
- b) Transmitir ao homem conhecimentos acumulados por gerações anteriores.
- c) Treinar a criança em pequenas virtudes
- d) N.R.C.

5- Complexo de idéias, de sentimentos e de atos que fazem do cidadão um elemento consciente e útil à comunidade, ao próximo e à Pátria, poderá ser uma definição de:

- a) Civismo
- b) Socialismo
- c) Partidarismo
- d) N.R.C.

6- São mais importantes entre estas virtudes cívicas:

- a) Conhecer o Hino Nacional e a Bandeira
- b) Falar bem a língua Pátria
- c) Real interesse pelas coisas da Pátria, zelo pelo bem comum, trabalho consciente em prol da comunidade.
- d) N.R.C.

7- A Bandeira Nacional um dos símbolos de nossa Pátria contém:

- a) 22 estrelas representando os Estados
- b) 23 estrelas representando os Estados e Territórios
- c) 1 estrela representando o Distrito Federal
- d) a e c se completam

8- Poderá ter símbolos próprios:

- a) Somente a União
- b) União, Estados e Municípios
- c) Distrito Federal
- d) Todos os citados

9- A soberania do Governo Federal Democrático e limitado:

- a) Pela moral e direitos naturais
- b) Pela Constituição e costumes internos
- c) Pelas exigências da comunidade internacional
- d) Por todos os citados

10- O Estado é:

- a) uma finalidade
- b) um meio
- c) uma organização despótica
- d) um objetivo

11- É Lei fundamental de um Estado :

- a) A Constituição
- b) A Instituição
- c) O Ato Institucional
- d) Todos os Citados

12- São fatores básicos na formação de uma Nação:

- a) Religião, política e raça
- b) Língua, raça e religião
- c) raça, fator psicológico e históricos
- d) política, fator psicológico, históricos e culturais

13- A sociedade é:

- a) estática e não muda
- b) instável e muda continuamente
- c) muda através de crises
- d) N.R.C.

14- A autoridade dos pais sobre os filhos até que os mesmos atinjam maior idade é o:

- a) Pátria-Poder
- b) Paternalismo
- c) Condicionismo
- d) N.R.C.

15- Assinale a escala correta de valores:

- a) espirituais, morais, materiais
- b) morais, espirituais, materiais
- c) materiais, espirituais, morais
- d) Não há escala, são iguais.

- 16- O cristianismo é o principal responsável pela:
- propagação da cultura no Ocidente
 - propagação da cultura no Oriente
 - pela queda da Império Romano
 - Invasão dos Bárbaros na Império Romano
- 17- É de autoria de João XXIII:
- Pöпулярium Progressio
 - Quadrágésimo Anno
 - Mater et Magistra
 - Rerum Novarum
- 18- Foi assinada por Paulo VI:
- Rerum Novarum
 - Pöпуlorum Progressio
 - Mater et Magistra
 - Pacen in Terris
- 19- "Homem da fronteira, creio em um mundo sem fronteiras entre os homens"
- Foi dito por:
- John Kennedy
 - Emílio Garrastazú Médici
 - Martin Luther King
 - Rui Barbosa
- 20- Produz cerca de 90% do Petróleo Nacional:
- Espírito Santo
 - São Paulo
 - Bahia
 - Amazonas
- 21- A UNESCO é um órgão da:
- ONU
 - OEA
 - Aliança para o Progresso
 - RAU
- 22- Os Mandamentos da Lei de Deus são:
- princípios religiosos
 - princípios religiosos e morais
 - princípios morais
 - N.R.C.

- 23- São princípios gerais da Constituição Brasileira:
- Constituição escrita, com separação de poderes, governo representativo.
 - Constituição outorgada, com separação de poderes, e governo representativo.
 - Constituição costumeira, com separação de poderes, governo representativo.
 - T.R.C.
- 24- São consideradas brasileiros natos; exceto:
- Filho de brasileiro que nasceu no Brasil.
 - Filho de diplomata brasileiro que nasceu no exterior.
 - Filho de diplomata estrangeiro que nasceu no Brasil.
 - Filho de simples comerciante estrangeiro, que nasceu no Brasil.
- 25- O poder Judiciário é exercido pelos seguintes órgãos exceto:
- Súpremo Tribunal Federal, Tribunais Federais de Recursos e Juízes Federais.
 - Tribunais e Juízes Eleitorais, Tribunais e Juízes Militares
 - Tribunais e Juízes de Trabalho
 - Congresso Nacional.
- 26- O conjunto de poderes; Executivo, Legislativo e Judiciário, de fine:
- A Constituição
 - O Bem Comum
 - O Povo
 - O Governo
- 27- Aos Juízes a Constituição assegura:
- inamovibilidade
 - irredutibilidade de vencimentos e vitaliciedade
 - imovibilidade
 - a e b se completam.
- 28- Pela nova Constituição o Presidente da República é eleito:
- Pelo povo diretamente
 - Por um Colégio Eleitoral (Membros do Legislativo)
 - Por um "Colégio Eleitoral" (Membros do Judiciário)
 - b e c se completam.

- 29- O Brasil faz parte da ONU:
- a) Desde o ano de sua fundação.
 - b) Desde 1.948.
 - c) Desde 1.964.
 - d) Desde 1.925.
- 30- Assistiu a partida semi-final do campeonato Nacional de Basquete entre Goiás e São Paulo: o Ministro da Educação:
- a) Járbas Gonçalves Passarinho
 - b) Alfredo Buzaid
 - c) Mário Andreazza
 - d) Higinio C. Corsetti.
- 31- Não é de natureza política o poder:
- a) Judiciário
 - b) Legislativo
 - c) Executivo
 - d) Nenhum desses
- 32- Podê apresentar projetos de Lei:
- a) Deputados e Senadores
 - b) Presidente
 - c) Ministro de Estado
 - d) Todos os citados
- 33- Marque a alternativa errada:
- a) A autonomia estadual é assegurada por uma Constituição própria.
 - b) O município tem autonomia
 - c) A Intervenção Federal é prevista na própria Constituição.
 - d) A Constituição Brasileira de 1.946 foi outorgada.
- 34- O Brasil forneceu tropas para forças de organizações internacionais (OEA e ONU) em:
- a) Itália, Suez e S. Domingos
 - b) S. Domingos e Vietnam
 - c) S. Domingos e Suez
 - d) Nunca forneceu tropas a essas organizações.
- 35- A dirigibilidade e a invenção da aeroplano devem-se a:
- a) Zappelin
 - b) Bartolomeu de Gusmão
 - c) Morse
 - d) Santos Dumont
- 36- O que se comemora a 24 de Outubro:
- a) Dia do Soldado

- b) Dia do Aviador
- c) Dia das Nações Unidas
- d) Dia do Bandeirante

37- Brasília foi inaugurada a:

- a) 21 de abril de 1.960
- b) 22 de abril de 1.961
- c) 21 de abril de 1.962
- d) 22 de abril de 1.960

38- A indústria automobilística no Brasil data de:

- a) 1.960
- b) 1.954
- c) 1.952
- d) 1.964

39- A descoberta da imprensa por Gutenberg por volta de 1.436 causou uma explosão na cultura universal, sobretudo a partir do renascimento, e a "comunicação" acelerou sua marcha veloz entre os povos do Ocidente. Mas apesar disso a imprensa pode ser arma perigosa:

- a) Quando mal dirigida ou mal intencionada
- b) Quando atinge classes mais baixas.
- c) Quando leva para o mundo notícias particulares
- d) Nunca será perigosa.

40- O correio Aéreo Nacional "CAN" que tantos serviços já prestou a nossa Pátria foi criado em 1.931 por um grande brasileiro, de vida inteiramente voltada ao serviço aéreo nacional, é ele:

- a) Eduardo Gomes
- b) Marechal Rondon
- c) Saldanha da Gama
- d) Nenhum desses.

SECRETARIA DA EDUCAÇÃO E CULTURA

COORDENAÇÃO DOS EXAMES DE MADUREZA- COMPLEMENTARES

NOME DO CANDIDATO: _____

(Assinatura do candidato)

Nº DE ENSCRIÇÃO: _____

OBSERVAÇÕES:

- 1) Marque apenas uma letra correspondente à resposta certa, em cada teste.
- 2) Teste rasurado, ou com dupla resposta, será anulado.

Nº	A	B	C	D
1				
2				
3				
4				
5				
6				
7				
8				
9				
10				
11				
12				
13				
14				
15				
16				
17				
18				
19				
20				

Nº	A	B	C	D
21				
22				
23				
24				
25				
26				
27				
28				
29				
30				
31				
32				
33				
34				
35				
36				
37				
38				
39				
40				



SERVIÇO PÚBLICO FEDERAL
MINISTÉRIO DA EDUCAÇÃO
UNIVERSIDADE FEDERAL DE GOIÁS
FACULDADE DE EDUCAÇÃO

FICHA DE SUBSTITUIÇÃO DE IMAGEM

ESTA FICHA INDICA QUE A IMAGEM NESTA POSIÇÃO DA UNIDADE DE DESCRIÇÃO EM SUPORTE DE PAPEL NÃO FOI MANTIDA NESTE REPRESENTANTE DIGITAL PARA FINS DE PROTEÇÃO DO DIREITO DE PRIVACIDADE, POIS NA REFERIDA IMAGEM EXISTEM DADOS PESSOAIS RELATIVOS À PESSOAS NATURAIS IDENTIFICADAS OU IDENTIFICÁVEIS.

AÇÃO/PROJETO:	Projeto de Pesquisa: Educação de Jovens e Adultos Trabalhadores em Goiás - relações entre o local e o nacional. Cadastro SIGAA PI0581-2017. (Agência de Fomento: CNPq).
RESPONSÁVEL PELA AÇÃO/PROJETO:	Prof. Maria Margarida Machado
ENTIDADE CUSTODIADORA:	Centro Memória Viva - Goiás
TÍTULO DO FUNDO/COLEÇÃO:	Coleção Pesquisa Documental na Secretaria de Educação do Estado de Goiás: Redescobrimo a História da Educação de Jovens e Adultos - EJA em Goiás.
CÓDIGO DE REFERÊNCIA DA UNIDADE DE DESCRIÇÃO:	BRCMV-HEJAE-2021.01-007
TÍTULO DA UNIDADE DE DESCRIÇÃO:	Relatório dos exames de madureza - Realizados de 17 a 21 de Novembro de 1972
TOTAL DE IMAGENS DA UNIDADE DE DESCRIÇÃO:	159
POSIÇÃO/INTERVALO DA(S) IMAGEM(NS) SUBSTITUÍDA(S):	115-128
DATA DE SUBSTITUIÇÃO DE IMAGEM:	06/07/2021
RESPONSÁVEL PELA SUBSTITUIÇÃO:	Stephany Nascimento Lago e Walquíria Cunha Borges.

RELATÓRIO DOS
EXAMES DE MADUREZA

NOVEMBRO DE 1972

O.S.P.B. 1º CICLO

- a) PROVA DADA
- b) LISTA DE ASSINATURAS
- c) NOTAS FINAIS
- d) ATA

SECRETARIA DA EDUCAÇÃO E CULTURA
COORDENAÇÃO DOS EXAMES DE MADUREZA-COMPLEMENTARES

NOME DO CANDIDATO: _____

(Assinatura do candidato)

Nº DE INSCRIÇÃO: _____

PROVA DE ORGANIZAÇÃO SOCIAL E POLÍTICA BRASILEIRA - 1º CICLO

I N S T R U Ç Õ E S

- 1) Em cada questão existe apenas uma alternativa a escolher
- 2) Encontrando-a, deverá marcar a letra na questão correspondente na folha de resposta.
- 3) Só assinale quando tiver certeza, pois questão rasurada é questão nula.
- 4) N.R.C. (Nenhuma Resposta Certa)
- 5) Não há substituição de folha de resposta
- 6) O valor de cada questão é de 0,25.
- 7) Desejamos-lhe felicidades, e que faça uma boa prova.

---000---

"NEGAR A PÁTRIA É NEGAR TODA A VIDA SOCIAL E MORAL.
A PÁTRIA É UM ELO, QUE SE LIGA, INTERMEDIARIAMENTE, COM ESTES
DOIS OUTROS ELOS: A FAMÍLIA E A HUMANIDADE".

---000---

A acomodação da sociedade em camadas chama-se:

- (a) estratificação social
- (b) interação social
- (c) cooperação social
- (d) coordenação social

II

A posição que o indivíduo ocupa em cada grupo de que faz parte, chama-se:

- (a) oposição social
- (b) dinâmica social
- (c) classe social
- (d) status

III

As partes que mais resistem as mudanças na organização social e vão se tornando estáveis e permanentes chamam-se:

- (a) comunidade
- (b) instituições
- (c) associações
- (d) constituições

IV

O casamento, a família, a escola, a profissão, são exemplos de:

- (a) status social
- (b) associações
- (c) instituições
- (d) estratificações

V

A entidade física de uma Nação denomina-se:

- (a) País
- (b) População
- (c) Pátria
- (d) Estado

VI

Conjunto daqueles que se originam da mesma cepa, falam a mesma língua, vivem os mesmos ideais etc... Define:

- (a) País
- (b) Estado
- (c) População
- (d) Nação

A acomodação da sociedade em camadas chama-se:

- (a) estratificação social
- (b) interação social
- (c) cooperação social
- (d) coordenação social

II

A posição que o indivíduo ocupa em cada grupo de que faz parte, chama-se:

- (a) oposição social
- (b) dinâmica social
- (c) classe social
- (d) status

III

As partes que mais resistem as mudanças na organização social e vão se tornando estáveis e permanentes chamam-se:

- (a) comunidade
- (b) instituições
- (c) associações
- (d) constituições

IV

O casamento, a família, a escola, a profissão, são exemplos de:

- (a) status social
- (b) associações
- (c) instituições
- (d) estratificações

V

A entidade física de uma Nação denomina-se:

- (a) País
- (b) População
- (c) Pátria
- (d) Estado

VI

Conjunto daqueles que se originam da mesma cepa, falam a mesma língua, vivem os mesmos ideais etc... Define:

- (a) País
- (b) Estado
- (c) População
- (d) Nação

É a finalidade principal do Estado:

- (a) Conquista e defesa do bem comum
- (b) Conquista e defesa do bem privado
- (c) Defender a Constituição
- (d) Defender o Governo

VIII

O conjunto dos Poderes: Legislativo, Executivo e Judiciário define:

- (a) A Constituição
- (b) O Governo
- (c) O povo
- (d) Estado

IX

Como República Federativa o Brasil é:

- (a) Estado Composto
- (b) Estado Unitário
- (c) Estado dependente
- (d) Nenhum desses

X

Gozam autonomia política administrativa:

- (a) Os Estados membros da União
- (b) Os Estados e os Territórios da União
- (c) Os Estados e o Distrito Federal
- (d) Os Estados os Territórios e o Distrito Federal.

XI

Auto-governo, mais representação exterior é:

- (a) República
- (b) Monarquia
- (c) Autonomia
- (d) Soberania

XII

Lei Fundamental de um Estado é:

- (a) Constituição
- (b) Instituição
- (c) Código Civil
- (d) Código Judiciário

Quando nomeia, promove, demite, declara mobilização, estado de sítio, etc.

Os decretos são atos do:

- (a) Legislativo
- (b) Executivo
- (c) Judiciário
- (d) de todos

XIV

O Executivo no Parlamentarismo Republicano é exercido pelo:

- (a) Presidente da República
- (b) Primeiro Ministro ou Presidente do Conselho de Ministros
- (c) Congresso Nacional
- (d) Senado Federal

XV

No Presidencialismo o executivo é exercido:

- (a) Pelo Presidente da República
- (b) Pelo Congresso Nacional
- (c) Pelo Senado Federal
- (d) Pelos Ministros de Estado

XVI

Monarquia absoluta é a forma de governo na qual o monarca:

- (a) governa sozinho
- (b) obedece uma Constituição
- (c) governa com o Parlamento
- (d) governa com o 1º ministro

XVII

Na Democracia

- (a) Há pluralidade de partidos
- (b) Há apenas um partido político
- (c) não há partidos políticos
- (d) não é necessário a existência de partidos políticos

XVIII

O Poder Legislativo é exercido:

- (a) Pelas Camaras municipais, Estaduais e pelo Congresso Nacional
- (b) Pelo Congresso Nacional, Juizes e Prefeitos
- (c) Pelas Camaras Estaduais e Municipais
- (d) Pelo Congresso Nacional.

Fazem parte do poder Judiciário

- (a) Supremo Tribunal Federal, Camara dos Deputados e Assembléias Legislativas.
- (b) Supremo Tribunal Federal, Juizes e Tribunais Militares
- (c) Supremo Tribunal Federal e o Presidente da República
- (d) Supremo Tribunal Federal e o Congresso Nacional

XX

No Brasil tivemos várias Constituições, e todas foram:

- (a) escritas
- (b) outorgadas
- (c) costumeiras
- (d) promulgadas e votadas.

XXI

A Constituição do Estado-Novo era uma Constituição

- (a) Democrática
- (b) Monarquica
- (c) Outorgada e Ditatorial
- (d) Parlamentar

XXII

No sistema parlamentar brasileiro, que durou de 1961 a 1963 foi suprimido o cargo de:

- (a) Presidente da República
- (b) Vice-Presidente da República
- (c) Procurador Geral de República
- (d) nenhum desses

XXIII

A atual Constituição da República Federativa do Brasil

- (a) Amplia os poderes do Presidente
- (b) é a 2ª Constituição Republicana
- (c) é uma Consituição consuetudinária
- (d) Amplia os poderes do Congresso Nacional.

XXIV

O Poder Legislativo brasileiro é bicameral, isto é, formado por:

- (a) Ministério e Senado
- (b) Gabinete e Senado
- (c) Câmara e Ministério
- (d) Câmara e Senado

Diz-se que um projeto é votado quando:

- (a) é aprovado pelo Senado
- (b) é rejeitado pelo Presidente
- (c) é rejeitado pela Camara
- (d) é rejeitado pelo Senado

XXVI

Existe uma lei que é votada anualmente, afim de regular a despesa pública, e que se chama:

- (a) Delegada
- (b) Ordinária
- (c) Complementar
- (d) Orçamentária

XXVII

Na Nova Constituição o Presidente é eleito:

- (a) pelo povo diretamente
- (b) pelo povo através de seus senadores
- (c) por um Colégio Eleitoral (membros do Legislativo)
- (d) por um Colégio Eleitoral (membros do Judiciário)

XXVIII

Os ministros são

- (a) eleitos pelo povo
- (b) eleitos por representantes do povo
- (c) escolhidos pelo Tribunal Federal de Recursos
- (d) escolhidos pelo Presidente

XXIX

O Órgão Superior do Poder Judiciário no Brasil é:

- (a) Supremo Tribunal Federal
- (b) Tribunal Federal de Recursos
- (c) Congresso Nacional
- (d) Superior Tribunal Militar

XXX

A Sigla O N U significa:

- (a) Orientação para as Nações Unidas
- (b) Organismos Nacionais Universais
- (c) Organização Nacional Universal
- (d) Organização das Nações Unidas.

O Brasil faz parte da:

- (a) O N U e O E A
- (b) O N U apenas
- (c) O E A apenas
- (d) Não faz parte de nenhum dos dois atualmente

XXXII

Os projetos de lei sobre matéria tributária e orçamentária do D. Federal, são discutidas e votadas:

- (a) Na Camara dos vereadores do D. Federal
- (b) No Ministério
- (c) No Senado da República
- (d) Na Assembléia Legislativa do D. Federal

XXXIII

Gozam de autonomia políticas-administrativa no Brasil:

- (a) Os Estados
- (b) Os Estados, Territórios e D. Federal
- (c) Os Estados e o D. Federal
- (d) N.R.C.

XXXIV

Foi inaugurado recentemente pelo Exmo. Presidente da República, Gal. Emílio Garrastazu Médici o 1º trecho implantado na Transamazônica; de:

- (a) Estreito a Castanhal
- (b) Estreito a Itaituba
- (c) Estreito a Altamira
- (d) Estreito a Belém

XXXV

A grande rede de telecomunicações que interliga o Brasil aos demais países é a:

- (a) TV Cultura
- (b) Embratel
- (c) UPI
- (d) Nenhum desses

XXXVI

O nº de deputados Federais de cada Estado, na Camara Federal é:

- (a) 3 por Estado
- (b) Proporcional ao nº de eleitores
- (c) 25 por Estado
- (d) o minimo de 5 e o máximo de 20.

XXXVII

O Ministro Júlio Barata está participando da reunião de Ministros de Trabalho da América Latina convocada pela:

- (a) ONU
- (b) OTAN
- (c) OEA
- (d) BIRD

XXXVIII

Foram diretamente beneficiados com o decreto-lei Prodoeste

- (a) Goiás e Mato Grosso
- (b) Goiás, Minas Gerais e Mato Grosso
- (c) Goiás, Distrito Federal e Mato Grosso
- (d) Minas Gerais e Mato Grosso

XXXIX

O Ministro da Educação e Cultura é atualmente:

- (a) Higinio Corsetti
- (b) Jarbas Gonçalves Passarinho
- (c) Mario Andreazza
- (d) Alfredo Buzaid

XL

São eleitos por cada Estado:

- (a) 3 senadores
- (b) 5 senadores
- (c) 12 senadores
- (d) não tem nº determinado.

SECRETARIA DA EDUCAÇÃO E CULTURA

COORDENAÇÃO DOS EXAMES DE MADUREZA- COMPLEMENTARES

NOME DO CANDIDATO: _____

(Assinatura do candidato)

Nº DE INSCRIÇÃO: _____

OBSERVAÇÕES:

- 1) Marque apenas uma letra correspondente à resposta certa, em cada teste.
- 2) Teste rasurado, ou com dupla resposta, será anulado.

Nº	A	B	C	D
1				
2				
3				
4				
5				
6				
7				
8				
9				
10				
11				
12				
13				
14				
15				
16				
17				
18				
19				
20				

Nº	A	B	C	D
21				
22				
23				
24				
25				
26				
27				
28				
29				
30				
31				
32				
33				
34				
35				
36				
37				
38				
39				
40				



SERVIÇO PÚBLICO FEDERAL
MINISTÉRIO DA EDUCAÇÃO
UNIVERSIDADE FEDERAL DE GOIÁS
FACULDADE DE EDUCAÇÃO

FICHA DE SUBSTITUIÇÃO DE IMAGEM

ESTA FICHA INDICA QUE A IMAGEM NESTA POSIÇÃO DA UNIDADE DE DESCRIÇÃO EM SUPORTE DE PAPEL NÃO FOI MANTIDA NESTE REPRESENTANTE DIGITAL PARA FINS DE PROTEÇÃO DO DIREITO DE PRIVACIDADE, POIS NA REFERIDA IMAGEM EXISTEM DADOS PESSOAIS RELATIVOS À PESSOAS NATURAIS IDENTIFICADAS OU IDENTIFICÁVEIS.

AÇÃO/PROJETO:	Projeto de Pesquisa: Educação de Jovens e Adultos Trabalhadores em Goiás - relações entre o local e o nacional. Cadastro SIGAA PI0581-2017. (Agência de Fomento: CNPq).
RESPONSÁVEL PELA AÇÃO/PROJETO:	Prof. Maria Margarida Machado
ENTIDADE CUSTODIADORA:	Centro Memória Viva - Goiás
TÍTULO DO FUNDO/COLEÇÃO:	Coleção Pesquisa Documental na Secretaria de Educação do Estado de Goiás: Redescobrimo a História da Educação de Jovens e Adultos - EJA em Goiás.
CÓDIGO DE REFERÊNCIA DA UNIDADE DE DESCRIÇÃO:	BRCMV-HEJAE-2021.01-007
TÍTULO DA UNIDADE DE DESCRIÇÃO:	Relatório dos exames de madureza - Realizados de 17 a 21 de Novembro de 1972
TOTAL DE IMAGENS DA UNIDADE DE DESCRIÇÃO:	159
POSIÇÃO/INTERVALO DA(S) IMAGEM(NS) SUBSTITUÍDA(S):	140-157
DATA DE SUBSTITUIÇÃO DE IMAGEM:	06/07/2021
RESPONSÁVEL PELA SUBSTITUIÇÃO:	Stephany Nascimento Lago e Walquíria Cunha Borges.

RELATÓRIO GERAL

Exame de Madureza

Disciplina- O.S.P.B.

Ciclo - 1º

Local - Colégio Estadual de Goiânia

Horário- 10 horas

Data - /11/72

1. Candidatos

Inscritos- 332

Presentes- 320

Ausentes - 12 (com 1 cancelado)

2. Os candidatos, divididos em 11 turmas ocuparam as salas:
15, 16, 17, 18, 19, 20, 21, 22, 23, 24 e 25.

3. Nome dos candidatos ausentes:

Sala 15: Anatólia Gomes do Nascimento

Sala 16: Antolina Baia Borges

Carlos de Paula Ribeiro

Sala 17: Denis Guimarães consta da lista com a observação
"cancelada"

Sala 19: Geralda Vieira da Conceição
Genoídes Franco Parreira

Sala 20: Jair Vieira

Sala 22: Maria Esther Fonte Coelho
Milton Pereira de Azevedo

Sala 25: Valdeci Lima Ornelas

Waldir Sebastião de Almeida

Walter Francisco Sales

4. Fiscais: Hercília Milazzo
Maria Bernadete G. F. Curado
José Dias de Moraes Cunha
Isabel Dias Neves
David Roberto Barbosa
Agenor Pedroso
Nilton Mario Fiorio
Cecília de Paiva Rocha

Nilson Pereira de Brito
Aurea Curado Fleury Teixeira
Ruy Pereira da Silva

5. Banca Examinadora

Maria Sonia França e Souza
Neide França Pereira

6. Índice de aprovação:

Candidatos aprovados:
Candidatos reprovados:

7. Ocorrências Extraordinárias - nenhuma

8. Encerramento: = às 12 horas

Assinatura da banca examinadora

Maria Sonia França e Souza

Neide França Pereira